

# آزمون شماره ۱

نسخه 1400-05-01

# 1400



### آئین نامه راهنمایی و رانندگی

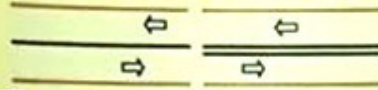
(گواهینامه سوم)

زمان ۲۰ دقیقه

از گذاشتن هرگونه علامت بر روی برگه آزمون جدا خودداری فرمایید



۲۴ مفهوم خطوط طولی در این شکل چیست؟



- ۱ - به هیچ وجه نباید از روی آن عبور نمود.
- ۲ - عبور از روی آن مجاز می باشد.
- ۳ - با احتیاط می توان از روی آن دور زد.
- ۴ - در صورت لزوم می توان از روی آن سبقت گرفت.

۲۳ این شکل بیانگر چیست؟

- ۱ - سواری در حال سبقت گرفتن از موتورسوار است.
- ۲ - موتورسوار در نقطه کور سواری قرار دارد.
- ۳ - عدم رانندگی بین خطوط
- ۴ - سبقت غیر مجاز



۲ کدام تابلو بیانگر کاهش خطوط عبور می باشد؟



۱ کدام تابلو درباره عبور عابر پیاده هشدار می دهد؟



۴ این تابلو بیانگر چیست؟



- ۱ - جریان همگرا
- ۲ - شروع جداکننده
- ۳ - تقاطع فرعی به اصلی
- ۴ - هدایت مسیر با جداکننده

۳ عنوان این تابلو چیست؟



- ۱ - عبور پیاده ممنوع
- ۲ - گذرگاه عابر پیاده
- ۳ - عبور عابر پیاده
- ۴ - شروع محل پیاده روی

۶ این تابلو بیانگر چیست؟



- ۱ - تقاطع
- ۲ - فقط گردش به چپ مجاز
- ۳ - میدان
- ۴ - جهت عبور در میدان

۵ این تابلو بیانگر چیست؟



- ۱ - عبور با ارتفاع بیش از ۲ متر ممنوع
- ۲ - عبور با عرض بیش از ۲ متر ممنوع
- ۳ - عبور با بار بیش از ۲ تن بر هر محور ممنوع
- ۴ - عبور وسائط نقیه با وزن بیش از ۲ تن ممنوع

۲۸ محدودیت های حرکت و سرعت در جاده ها

به وسیله ..... تعیین می گردد.

۱ - رانندگان

۲ - علیم و تابلوها

۳ - استفاده کنندگان از راه

۴ - افراد صلاحیت دار

۲۷ سرعت مجاز برای خودروها در جاده های

اصلی در روز حداکثر..... و شبها حداکثر.....

کیلومتر در ساعت است.

۱ - ۱۰۰، ۱۱۰ - ۲ - ۱۰۰، ۹۰

۳ - ۸۵، ۹۵  - ۴ - ۱۱۰، ۱۰۰

۳۰ کدام مورد زیر صحیح نمی باشد؟

- ۱ - کنترل دوره ای تایر زاپاس مهم می باشد.
- ۲ - عدم تنظیم چرخ ها در ساییدگی نامتوازن تایرها موثر است.
- ۳ - یکی از نکات مهم در خصوص سیستم ترمز، کنترل روغن ترمز است.
- ۴ - در صورتی که باد تایر بیش از حد مجاز باشد، سطح اتصال تایر با زمین در بیشترین حد خود قرار می گیرد.



۲۹ رانندگان با مشاهده چراغ چشمک زن زرد در تقاطع چه عملی باید انجام دهند؟

- ۱ - با احتیاط کامل و سرعت کم عبور نمایند.
- ۲ - با زدن بوق و با سرعت اولیه به حرکت خود ادامه دهند.
- ۳ - در صورت ضرورت بر سرعت خود بیفزایند.
- ۴ - با روشن نمودن چراغ خودرو از تقاطع عبور نمایند.



۷ مفهوم این تابلو چیست؟



۱ - عبور وسائط نقلیه موتوری ممنوع

۲ - عبور سواری ممنوع

۳ - عبور کلیه وسائط نقلیه ممنوع

۴ - ورود سواری ممنوع

۹ استفاده از بوق در کدام یک از موارد زیر مجاز است؟

۱ - اطلاع و آگاه سازی سایر کاربران راه و جلوگیری از بروز سانحه و خطر

۲ - اطلاع و آگاه سازی برای ادای احترام به سایر کاربران راه

۳ - برای کاهش شدت تصادفات

۴ - برای کاهش شدت تصادفات و ادای احترام به سایر کاربران راه

۱۱ منظور از این چراغ چیست؟



۱ - در این حالت عبور مستقیم و گردش در جهت پیکان مجاز می باشد.

۲ - عبور مستقیم مجاز بوده ولی گردش به سمت پیکان غیر مجاز می باشد

۳ - حرکت به صورت مستقیم ممنوع است.

۴ - صرفاً می توان به سمت راست حرکت نمود .

۱۲ در آزاد راه های بیرون شهری و مناطق غیر مسکونی، حداقل سرعت چند کیلومتر در ساعت است؟

۱ - ۱۳۰

۲ - ۷۰

۳ - ۸۵

۴ - ۹۵

۸ این تصویر بیانگر چیست؟



۱ - رانندگی بین خطوط

۲ - ممنوعیت عبور از روی خطوط زیگزاگ

۳ - خط کشی عرضی ممتد ایست

۴ - ممنوعیت حرکت روی خطوط هاشور (اضطرار) در حاشیه راه

۱۰ کدام یک از وسایل نقلیه زیر نسبت به دیگر وسایل نقلیه از ایمنی کمتری برخوردارند؟

۱ - خودروهای سواری

۲ - کامیونها و اتوبوسها

۳ - موتورسیکلت ها و دوچرخه ها

۴ - وسایل نقلیه کشاورزی

۱۲ به همراه چراغ چشمک زن فرمز معمولاً کدام تابلوی راهنمایی و رانندگی نصب می گردد؟

۱ - فقط عبور مستقیم مجاز

۲ - گردش به چپ ممنوع

۳ - فقط عبور به راست مجاز

۴ - ایست و یا رعایت حق تقدم

۱۴ در برخورد راه اصلی با راه فرعی تقدم عبور با وسیله ای است که ...

۱ - از راه اصلی عبور می کند

۲ - از راه فرعی عبور می کند .

۳ - به سمت راست گردش می کند .

۴ - در طرف راست وسیله نقلیه دیگر قرار دارد .

۱۵ منظور از توقف چیست؟

۱ - ایست وسیله نقلیه در زمان طولانی بدون حضور راننده

۲ - ایست وسیله نقلیه در زمان کوتاه

۳ - ایست وسیله نقلیه در زمان طولانی با حضور راننده

۴ - ایست وسیله نقلیه برای هر مدت ممنوع

۱۷ از چند متری بیج ها سبقت گرفتن ممنوع است؟

۱ - ۱۵۰ متری

۲ - ۱۰۰ متری

۳ - ۵۰ متری

۴ - سبقت گرفتن در بیج ها محدودیت ندارد

۱۹ کدامیک جزو وظایف سیستم تعلیق نمی باشد؟

۱ - تامین راحتی راننده

۲ - کنترل قدرت و شتاب خودرو

۳ - حفظ تعادل و پایداری خودرو به هنگام عبور از پستی یا بلندی ها

۴ - ممانعت از واژگونی خودرو هنگام گذر از پیچ های تند

۲۱ کدامیک از موارد زیر در خصوص کمکهای اولیه صحیح می باشد؟

۱ - انجام کمکهای اولیه حتماً باید توسط پزشکان صورت پذیرد.

۲ - کمکهای اولیه می تواند در محل حادثه یا در بیمارستان انجام شود.

۳ - کمکهای اولیه سبب کاهش چشمگیر مرگ و میر و تخفیف بیماری و آسیبهای مصدوم می شود.

۴ - کمکهای اولیه تأثیری در تخفیف بیماری و آسیبهای مجروح نداشته صرفاً جهت بالابردن روحیه بیمار صورت می گیرد.

۱۶ هرگاه وسیله نقلیه ای شب در کنار و بیرون سطح راه توقف نماید و نور کافی در آن محل برای تشخیص اشخاص از فاصله ۱۵۰ متری وجود نداشته باشد انجام کدام مورد زیر ضروری است؟

۱ - نگهداشتن پدال ترمز برای روشن شدن چراغ ترمز

۲ - روشن نمودن چراغهای بزرگ با نور بالا

۳ - روشن نگهداشتن چراغهای کوچک جلو و خطر عقب وسیله نقلیه

۴ - روشن نمودن راهنمای سمت راست خودرو

۱۸ ..... ، علاوه بر اینکه کلیدی ترین ابزار در کنترل خودرو میباشد ، می تواند به عنوان بازخوردی مناسب، صحت یا عدم سلامت بخشهای مهمی از خودرو همچون سیستم جلوبندی و وضعیت فرمان پذیری را آشکار نماید.

۱ - پدال گاز

۲ - غربیلک فرمان

۳ - پدال ترمز

۴ - آینه بغل

۲۰ استفاده از کدام نوع کمربند ایمنی در خودرو الزامی است؟

۱ - سه نقطه ای

۲ - دو نقطه ای

۳ - کمربند ران

۴ - نوع کمربند ایمنی مهم نیست

۲۲ این صفات جزو کدام نوع از رانندگان می باشند: تغییر مسیر ناگهانی و خطا فرین برای سایر رانندگان، قسار گرفتن به مدت طولانی در خط سرعت به منظور تنبیه اتومبیل پشت سر و استفاده از نور بالا برای اذیت کردن راننده مقابل.

۱ - رانندگان مسن

۲ - رانندگان پرخاشگر

۳ - رانندگان جوان

۴ - رانندگان بی تجربه

# آزمون شماره ۲





# ن نامه راهنمایی و رانندگی

واحدنامه رانندگی پایه سوم

زمان ۲۰ دقیقه

جدا خودداری فرمایید

از گذاشتن هرگونه علامت



۲ کدام تابلو بیانگر خط عبور برای گریز می باشد؟



(۲)



(۱)



(۴)



(۳)

۴ این تابلو بیانگر چیست؟



(۱)

۱ - فقط عبور پیاده

۲ - عبور پیاده ممنوع

۳ - عبور اطفال

۴ - عبور عابر پیاده

۶ این تابلو بیانگر چیست؟



(۱)

۱ - شروع جدا کننده

۲ - پایان جدا کننده

۳ - جریان همگرا

۴ - هدایت مسیر یا جدا کننده

۱ کدام تابلو، ممنوعیت عبور وسایل نقلیه موتوری را اعلام می دارد؟



(۲)



(۱)



(۴)



(۳)

۳ عنوان این تابلو چیست؟



۱ - پرتاب سنگ

۲ - خطر سقوط در آب

۳ - ریزش سنگ

۴ - خطر پرتاب سنگ

۵ این تابلو بیانگر چیست؟



۱ - گذرگاه پیاده

۲ - زیرگذر یا روگذر

۳ - شروع محل پیاده روی

۴ - شیب سربالایی ده درصد

۲۴ در راههای پرتراffیکی که خودروها پشت سرهم به مسورت فشرده در حرکت هستند چگونه می توانید از بروز تصادف جلوگیری کنید؟



۱ - در شانه خلکی توقف کنید .

۲ - چراغهای خطر را روشن کنید .

۳ - فاصله خود را با اتومبیل جلویی افزایش دهید

۴ - پای خود را بر روی ترمز قرار دهید.

۲۶ در خیابان ها و جاده های که نور کافی وجود دارد.....

۱ - باید از نور بالا استفاده نمود .

۲ - باید تنها از چراغ های جانبی جلو و عقب استفاده نمود

۳ - باید تنها از نور پایین استفاده نمود.

۴ - تمام چراغها را باید خاموش نمود.

۲۸ دست کم هر چند وقت یکبار باید سطح آب رادیاتور را کنترل نمود؟

۱ - سالی یک بار

۲ - هفته ای یک بار

۳ - ماهی یک بار

۴ - نیازی به کنترل ندارد

۳۰ در این تقاطع، حق تقدم عبور به ترتیب با کدام خودروها می باشد؟



۱ - سبز ، نارنجی ، زرد ، آبی

۲ - نارنجی ، سبز ، زرد ، آبی

۳ - سبز ، نارنجی ، آبی ، زرد

۴ - نارنجی ، سبز ، آبی ، زرد

۲۳ این شکل چه چیزی را نشان می دهد؟



۱ - محدوده نقاط کور در خودروهای سنگین

۲ - عدم رعایت سرعت مجاز

۳ - طول محدودیت پارکینگ

۴ - سطح روشنایی چراغ ها

۲۵ کدام گزینه در مورد گردش به چپ در راههای یک طرفه درست است؟

۱ - رانندگان موظفند وسیله نقلیه را به منتهی الیه طرف راست خیابان هدایت و سپس به چپ گردش کنند

۲ - گردش به چپ در خیابان یک طرفه ممنوع است .

۳ - رانندگان موظفند وسیله نقلیه را به منتهی الیه طرف چپ خیابان هدایت و سپس به چپ گردش کنند

۴ - باید منتظر بمانند تا خیابان خلوت شود .

۲۷ انجام کدام عمل در پشت چراغ قرمز در یک تقاطع نادرست است؟

۱ - به هنگام چراغ قرمز باید پشت خط ایست توقف کامل نمود .

۲ - تا هنگام روشن شدن چراغ سبز و تخلیه تقاطع باید منتظر ماند .

۳ - اگر تقاطع خلوت باشد با احتیاط می توان گردش به راست نمود

۴ - عبور از چراغ قرمز ممنوع است.

۲۹ مفهوم چراغ سبز راهنمایی چیست؟

۱ - ایست کامل و سپس عبور


۲ - عبور یا گردش آزاد است مگر آنکه گردش نمودن توسط علائم دیگر ممنوع شده باشد.

۳ - افزایش سرعت وسیله نقلیه و عبور سریع از تقاطع

۴ - توقف پشت تابلو ایست در تقاطع



۷ مفهوم دو خط طولی عمود در این شکل چیست؟



- ۱- عبور از روی آن فقط برای سبقت منعی ندارد
- ۲- عبور از روی آنها در هر شرایطی مجاز است.
- ۳- رانندگان وسایل نقلیه نباید به هیچ وجه از روی این خطوط عبور نمایند \*
- ۴- عبور سواری از روی آنها مجاز است

۸ مفهوم شکل لوزی در علائم عبور و مرور چیست؟



- ۱- علامت دستوری، بازدارنده
- ۲- صرفاً برای رعایت حق تقدم
- ۳- معمولاً برای علائم راهنما
- ۴- شروع و پایان حق تقدم مسیر \*

۱۰ در کدامیک از موارد زیر احتمال وقوع تصادفات کمتر است؟

- ۱- هوای خشک، شرایط جاده استاندارد \*
- ۲- وجود مه، ریزش باران، کولک
- ۳- وجود مه، ریزش باران، شرایط جاده استاندارد
- ۴- وجود چاله و دست انداز در جاده، ریزش باران

۱۲ در این شکل حق تقدم عبور با کدام خودرو است؟

۱- خودرویی که با دایره مشخص شده است. \*



- ۲- خودرویی که خارج میدان قرار دارد.
- ۳- بستگی به جهت حرکت خودرو دارد.
- ۴- بستگی به مسیر نهایی خودرو دارد.

۱۱ کدام گزینه در مورد باد تأثیر صحیح تر است؟

- ۱- پر باد بودن تأثیرها می تواند فرمان پذیری خودرو را افزایش دهد.
- ۲- کم باد بودن تأثیرها باعث کاهش مصرف سوخت می شود.
- ۳- کم باد بودن تأثیرها باعث فرسایش تیر، از دست رفتن تعادل، هدایت و فرمان پذیری هنگام ترمزگیری خواهد شد. \*
- ۴- باد تیر زاپاس را می توان تخلیه و به همین شکل آن را نگهداری نمود

۱۴ از چند متری تقاطع راه آهن سبقت گرفتن ممنوع است؟

- ۱- ۵۰ متری \*
- ۲- ۱۰۰ متری
- ۳- ۱۵۰ متری
- ۴- محدودیت ندارد

۱۳ در صورت خرابی وسیله نقلیه و میسر نبودن انتقال آن به محل مناسب، چراغ الکتریکی را برای آگاه سازی دیگران باید در چه فاصله ای از وسیله نقلیه قرار داد؟

- |             |              |
|-------------|--------------|
| ۱- ۱۰۰ متری | ۲- ۲۰۰ متری  |
| ۳- ۱۵۰ متری | ۴- ۷۰ متری * |

۱۵ برای گردش به چپ در راه های بیرون شهری گه دارای دو خط عبور رفت و برگشت بدون مانع فیزیکی جداکننده می باشند رانندگان باید ابتدا وسیله نقلیه را .....

- ۱- در سمت چپ راه قرار گرفته و سپس با رعایت حق تقدم گردش نمایند
- ۲- در سمت چپ راه متوقف نمایند
- ۳- در شانه راه و یا منتهی الیه سمت راست راه متوقف نمایند \*
- ۴- در سمت چپ راه قرار گرفته و با زدن راهنما اقدام به گردش نمایند

۱۶ کدام چراغ راهنمایی معمولاً در محل برخورد راه اصلی با راه فرعی نصب می گردد؟

- ۱- چراغ چشمک زن قرمز برای ایست
- ۲- چراغ چشمک زن قرمز
- ۳- چراغ چشمک زن زرد \*
- ۴- چراغ چشمک زن قرمز برای عبور

۱۷ در خیابان شریان فرعی در شهرها، حداکثر سرعت چند کیلومتر در ساعت است؟

- ۱- ۵۰ \*
- ۲- ۶۰
- ۳- ۷۰
- ۴- ۸۵

۱۸ هدف از .....، تسلط کامل پاهای و دستها بر تجهیزات کنترلی همچون پدالها، اهرمها و غریبک فرمان می باشد.

- ۱- معاینه فنی
- ۲- تنظیم آینه ها
- ۳- سلامت فنی
- ۴- تنظیم صندلی \*

۱۹ لرنش غریبک فرمان می تواند ناشی از کدام نقص باشد؟

- ۱- خرابی جعبه دنده
- ۲- بالانس نبودن چرخ ها \*
- ۳- تمام شدن صفحه کلاج
- ۴- پایین بودن سطح سوخت

۲۰ کدامیک جزو وظایف سیستم تعلیق نمی باشد؟

- ۱- کنترل قدرت و شتاب خودرو \*
- ۲- تامین راحتی راننده
- ۳- حفظ تعادل و پایداری خودرو هنگام عبور از پستی یا بلندی ها
- ۴- ممانعت از واژگونی خودرو هنگام عبور از بیجهها

۲۱ درخصوص آتش سوزی خودرو انجام کدامیک از موارد زیر صحیح تر می باشد؟

- ۱- در هنگام آتش سوزی خودرو باید ابتدا از شعله دور شدن موتور خودرو جلوگیری بعمل آورد.
- ۲- در هنگام آتش سوزی خودرو باید ابتدا قسمتهای داخلی خودرو را خاموش نمود.
- ۳- در صورت وجود کپسول آتش نشانی با استفاده از آن آتش را خاموش نموده و در صورت عدم وجود کپسول آتش نشانی با پتو یا یک جسم غیرقابل اشتعال شعله را خفه کنید \*
- ۴- اجتناب از انفجار خودرو در صورتی که شعله به داخل خودرو انتقال باید زیاد است.

۲۲ این صفات جزو کدام نوع از رانندگان می باشد: مانور و تغییر مسیر به طور مکرر، بوق زدنهای بیپرده و مکرر و عبور از خط مقابل برای رهایی از ترافیک.

- ۱- رانندگان مسن
- ۲- رانندگان پرخاشک \*
- ۳- رانندگان جوان
- ۴- رانندگان بی تجربه



# آزمون شماره ۳



### آئین نامه راهنمایی و رانندگی

(گواهینامه رانندگی نامه سوم)

زمان ۲۰ دقیقه

از گذاشتن هرگونه علامت بر روی برگه آزمون جدا خودداری فرمایید



۲۴ کاربرد روش ۲ ثابته زمان در کجاست؟


- ۱ - تخمین مسافت خودرو در حال حرکت با وسیله نقلیه جلویی
- ۲ - بررسی آثار ناشی از تصادف
- ۳ - تست صحت کار موتور خودرو
- ۴ - محاسبه زمان چراغ راهنمایی در سر چهارراهها

۲۲ این شکل چه چیزی را نشان می دهد؟



- ۱ - نمایش سطح روشنایی خودروها
- ۲ - استفاده از نور پایین در فواصل کمتر از ۱۵۰ متر با خودروی جلویی
- ۳ - توجه به جلو در حین رانندگی با روشن نمودن چراغ ها
- ۴ - استفاده از نور بالا در فواصل کمتر از ۱۵۰ متر با خودروی جلویی

۲ عنوان کدام تابلو، راهنمای مسیر می باشد؟



۱ کدام تابلو، درباره حق تقدم عبور نمی باشد؟



۲۶ حداقل میزان سرعت مجاز کلیه وسایل نقلیه در آزاد راههای برون شهری ..... می باشد.

- ۱ - ۱۱۰ کیلومتر بر ساعت
- ۲ - ۷۰ کیلومتر بر ساعت
- ۳ - ۸۵ کیلومتر بر ساعت
- ۴ - ۹۵ کیلومتر بر ساعت

۲۵ دور زدن از چند متری پیچ ها ممنوع است؟

- ۱ - ۵۰۰ متری
- ۲ - ۲۰۰ متری
- ۳ - ۲۵۰ متری
- ۴ - ۱۵۰ متری

۲۸ در مبحث مفهوم رنگ ها و علائم عبور و مرور، مفهوم کدام رنگ به معنی حرکات مجاز می باشد؟



۲۷ از زمانی که راننده تشخیص می دهد نیاز به توقف و ایستادن دارد تا لحظه بکارگیری ترمزها چه نامیده می شود؟

- ۱ - زمان واکنش
- ۲ - زمان توقف
- ۳ - زمان هوشیاری
- ۴ - زمان حیاتی

۳۰ کدام مورد زیر از رفتارهای رانندگان پرخطر و پرخطر می باشد؟

- ۱ - تغییر مسیر با زدن چراغ راهنما
- ۲ - استفاده از نوربالا در محل های مجاز
- ۳ - عبور از خط مقابل برای رهایی از ترافیک
- ۴ - رعایت سرعت مطمئنه و رانندگی بین خطوط

۲۹ مفهوم چراغ سبز راهنمایی چیست؟



- ۱ - ایست کامل و سپس عبور
- ۲ - عبور یا گردش آزاد است مگر آنکه گردش نمودن توسط علائم دیگر ممنوع شده باشد
- ۳ - عبور سریع از تقاطع با افزایش سرعت.
- ۴ - توقف پشت تابلو ایست در تقاطع.

۴ این تابلو بیانگر چیست؟



- ۱ - سرعت بیش از ۷۰ کیلومتر بر ساعت ممنوع
- ۲ - رعایت فاصله بیشتر از ۷۰ متر ممنوع
- ۳ - رعایت فاصله کمتر از ۷۰ متر ممنوع
- ۴ - سرعت کمتر از ۷۰ کیلومتر بر ساعت ممنوع

۳ عنوان این تابلو چیست؟



- ۱ - عبور دوچرخه ممنوع
- ۲ - عبور دوچرخه سوار
- ۳ - فقط عبور دوچرخه
- ۴ - عبور موتورگازی ممنوع

۶ این تابلو بیانگر چیست؟



- ۱ - تقاطع جاده و راه آهن در ۱۰۰ متری
- ۲ - خروجی از آزادراه ۱۰۰ متر
- ۳ - تقاطع جاده و راه آهن در ۲۰۰ متری
- ۴ - خروجی از آزادراه ۲۰۰ متر

۵ این تابلو بیانگر چیست؟



- ۱ - عبور فقط با زنجیر چرخ
- ۲ - استفاده از زنجیر چرخ
- ۳ - در مواقع برف و یخبندان
- ۴ - استفاده از زنجیر چرخ



۷ منظور از خطوط هانور در شکل زیر چیست؟




۱ - تفکیک گذرگاه ها

۲ - وجود موانع در راهها

۳ - همان خطوط منقطع می باشد

۴ - خطوط اضطرار

۸ این شکل چه نوع پارکی را نشان می دهد؟



۱ - مورب

۲ - افقی

۳ - عمودی

۴ - قائم

۹ استفاده از بوق در کدام یک از موارد زیر مجاز است؟

۱ - اطلاع و آگاه سازی سایر کاربران راه و جلوگیری از بروز سانحه و خط

۲ - اطلاع و آگاه سازی برای ادای احترام به سایر کاربران راه

۳ - برای کاهش شدت تصادفات

۴ - برای کاهش شدت تصادفات و ادای احترام به سایر کاربران راه

۱۰ احتمال عبور عابرین پیاده در کدامیک از محلهای زیر بیشتر است؟

۱ - خطکشی عابر پیاده - بزرگراهها - نزدیک مراکز فروش

۲ - خطکشی عابر پیاده - نزدیک فضای بازی کودکان و مدارس - نزدیک مراکز خرید

۳ - خطکشی عابر پیاده - آزادراهها - نزدیک فضای بازی کودکان

۴ - بزرگراهها - نزدیک مراکز خرید - نزدیک مدارس

۱۱ به چه دلیل حرکت با دنده عقب خطرناک است؟

۱ - به طور کلی حرکت با دنده عقب ممنوع است

۲ - راننده نمی تواند پشت سر خود را به درستی و کامل ببیند

۳ - دنده ها در حرکت روبه عقب آسیب می بینند

۴ - خودرو صرفاً برای حرکت روبه جلو طراحی شده است

۱۲ هنگام رانندگی و مشاهده چراغ چشمک زن قرمز چه اقدامی باید انجام داد؟

۱ - عبور از تقاطع با سرعت کم و احتیاط لازم

۲ - عبور با احتیاط

۳ - عبور از تقاطع با همان سرعت و احتیاط لازم

۴ - ایست و عبور

۱۳ در خیابان شریان فرعی در شهرها ، حداکثر سرعت چند کیلومتر در ساعت است؟

۱ - ۵۰

۲ - ۶۰

۳ - ۷۰

۴ - ۸۵

۱۴ در سه راهه ها حق تقدم عبور با وسیله ای است که .....

۱ - در طرف راست وسیله نقلیه دیگر قرار دارد

۲ - به سمت راست گردش می کند

۳ - به طور مستقیم و در مسیر مجاز حرکت می کند

۴ - به سمت چپ در حال گردش است

۱۵ مهمترین وظیفه سیستم روغنکاری در خودرو کدام است؟

۱ - حفظ تعادل و پایداری خودرو

۲ - روانکاری و خنک کاری قطعات

۳ - رساندن سوخت به موتور

۴ - کمک به خروج دود از اگزوز

۱۶ از کدام علامت آگاه سازی برای سبقت در شب استفاده می شود؟

۱ - استفاده از بوق کوتاه

۲ - فقط تبدیل و تعویض نور چراغ بالا و پایین

۳ - تبدیل و تعویض نور چراغ بالا و پایین به همراه چراغ راهنما

۴ - استفاده از بوق بلند بطور متناوب

۱۷ سبقت از طرف راست وسیله نقلیه ای که در حال گردش به چپ می باشد .....

۱ - فقط در معابر شریانی درجه دو ممنوع است

۲ - ممنوع است

۳ - در هنگام روز مجاز است

۴ - مجاز است

۱۸ لرزش غریبک فرمان می تواند ناشی از کدام نقص باشد؟

۱ - تمام شدن صفحه کلاچ

۲ - خرابی جعبه دنده

۳ - بالانس نبودن چرخها

۴ - پایین بودن سطح سوخت

۱۹ مقدار ولتاژ باتری در خودروهای معمول سواری چند ولت است؟

۱ - ۱۲

۲ - ۶

۳ - ۲۴

۴ - ۳

۲۰ ..... دستگاهی است که انرژی حرارتی و شیمیایی موجود در سوخت را به انرژی جنبشی یا مکانیکی تبدیل می کند.

۱ - اگزوز

۲ - گیربکس

۳ - دیفرانسیل

۴ - موتور

۲۱ در انجام کمکهای اولیه کدامیک از موارد زیر صحیح است؟

۱ - در ارائه کمکهای اولیه باید روشی انتخاب شود که موثرتر و مفیدتر از سایر روشها بوده و منفعه ای به مصدوم وارد نکند

۲ - در ارائه کمکهای اولیه اصل بر این است که به سرعت بیمار را از محل حادثه دور نماییم.

۳ - در ارائه کمکهای اولیه باید روشی انتخاب شود که سریعتر جواب می دهد هر چند احتمال خطر در آن وجود داشته باشد.

۴ - حین ارائه کمکهای اولیه اگر آرامش ندارید کار خود را سریع انجام دهید.

۲۲ قبل از گرفتن طولانی مدت رانندگی در شرایط نامساعد زیست محیطی منجر به چه می شود؟

۱ - افزایش مقاومت بدن در قبال عوامل نامساعد

۲ - افزایش سیوری و بردباری راننده

۳ - تحریک پذیری، عصبانیت زود هنگام و پرخاشگری

۴ - افزایش اعتماد بنفس و از خود گذشتگی راننده

# آزمون شماره ۴






# بن نامه راهنمایی و رانندگی

سوم

زمان ۳۰ دقیقه

از گذاشتن هرگونه علامت بر روی برگه آزمون جدا خودداری فرمایید

۲ کدام یک از تابلوهای زیر جزو تابلوهای راهنمای مسیر نمیباشد؟




(۲)



(۱)



(۴)



(۲)



۱ کدام تابلو، درباره توقف نمی باشد؟



(۲)



(۱)



(۴)



(۳)



۳ این تابلو بیانگر چیست؟



۱ - گذرگاه عبور پیاده

۲ - عبور اطفال

۳ - عبور عابر پیاده

۴ - عبور پیاده ممنوع

۴ این تابلو بیانگر چیست؟



۱ - خیابان اصلی

۲ - رعایت حق تقدم

۳ - ورود ممنوع

۴ - پایان خیابان اصلی

۶ این تابلو بیانگر چیست؟



۱ - پارکینگ

۲ - راننده معلولین

۳ - پارکینگ مخصوص افراد معلول

۴ - پارکینگ مخصوص افراد ناشنوا

۵ این تابلو بیانگر چیست؟



۱ - سرعت بیش از ۳۰ کیلومتر بر ساعت ممنوع

۲ - پایان حداقل سرعت ۳۰ کیلومتر

۳ - حداقل سرعت ۳۰ کیلومتر

۴ - پایان محدودیت سرعت (۳۰ کیلومتر)

۲۴ در این تقاطع، حق تقدم عبور به ترتیب با کدام یک می باشد؟



۱ - دوچرخه، سواری، کامیون

۲ - کامیون، سواری، دوچرخه

۳ - سواری، دوچرخه، کامیون

۴ - کامیون، دوچرخه، سواری



۲۳ هنگام سبقت گرفتن اعم از اینکه روز باشد یا شب، برای جلب توجه وسایل نقلیه پشت سر، انجام کدام مورد زیر ضروری است؟

۱ - بوق زدن

۲ - تبدیل نور چراغ خودرو

۳ - اشاره با دست

۴ - زدن چراغ راهنما



۲۶ در چه شرایطی می توان در آزاد راه ها از باند سمت چپ استفاده کرد؟

۱ - برای کنار رفتن از سر راه کامیونهای بزرگ و جلوگیری از بروز تصادف

۲ - برای سبقت از وسایل نقلیه دیگر با استفاده از حداکثر سرعت مجاز در آن باند

۳ - برای سرعتهای بالاتر از ۱۳۰ کیلومتر در ساعت

۴ - تحت هیچ شرایطی نمی توان از باند سمت چپ استفاده کرد



۲۵ رانندگان و سایل نقلیه در صورت توقف اضطراری که امکان انتقال و سیله نقلیه به بیرون خط و یا مسیر عبوری وجود نداشته باشد، موظفند ...

۱ - با نصب علامت، از فاصله ۱۵۰ متری رانندگان وسایل نقلیه دیگر و پیادگان را آگاه نمایند

۲ - با نصب علامت، از فاصله ۷۰ متری رانندگان وسایل نقلیه دیگر و پیادگان را آگاه نمایند

۳ - با ایجاد موانع راه را ببندند

۴ - با آمدن به وسط راه و علامت دادن با دست دیگران را آگاه کنند



۲۸ مفهوم این تابلو چیست؟



۱ - پایان استفاده اجباری از زنجیر چرخ

۲ - استفاده از زنجیر چرخ در هنگام یخبندان

۳ - عبور فقط با زنجیر چرخ

۴ - استفاده از زنجیر چرخ هنگام ریزش باران



۲۷ مفهوم این تابلو چیست؟



۱ - عبور دو طرفه

۲ - حق تقدم عبور با وسیله نقلیه مقابل است

۳ - عبور از هر دو طرف ممنوع

۴ - حق تقدم عبور با شما



۳۰ رانندگان با مشاهده چراغ چشمک زن زرد در تقاطع چه عملی باید انجام دهند؟



۱ - با زدن بوق و با سرعت اولیه به حرکت خود ادامه دهند


۲ - با احتیاط کامل و سرعت کم عبور نمایند

۳ - با همان سرعت عبور نماید

۴ - ایست کامل و عبور



۲۹ کدامیک از تابلوهای زیر یک طرفه بودن راه را نشان می دهد؟




(۲)



(۱)



(۴)



(۳)



۷ بلند کردن دست به طور عمودی توسط پلیس به چه معناست؟



- ۱ - عبور سریع وسایل نقلیه از تقاطع
- ۲ - برای کلیه استفاده کنندگان از راه به معنای توجه توقف خواهد بود.
- ۳ - این علامت، رانندگانی را که بیشتر وارد محوطه تقاطع شده اند نیز ملزم به توقف میسازد.
- ۴ - رعایت سرعت مطمئنه در رانندگی

۸ کدام گزینه در مورد این شکل درست است؟



- ۱ - رانندگانی که در سمت خط پر (ممتد) قرار دارند، حق عبور از روی آن را ندارند.
- ۲ - رانندگانی که در سمت خط مقطع هستند نمی توانند از روی آن عبور کنند.
- ۳ - راننده سمت خط ممتد می تواند سبقت بگیرد.
- ۴ - راننده سمت خط مقطع باید با سرعت بالا عبور نماید.

۹ کدامیک از موارد زیر در خصوص مفهوم چراغ زرد صحیح نمی باشد؟

- ۱ - این چراغ به معنی هشدار برای تغییر رنگ چراغ از سبز به قرمز است.
- ۲ - با دیدن این چراغ باید از سرعت خودرو کاسته تا بتوانید به آرامی در پشت خط توقف بایستید.
- ۳ - در صورتیکه چراغ زرد شده و شما قبلاً در تقاطع وارد شده اید باید به حرکت خود ادامه داده و با احتیاط عبور نمایید.
- ۴ - به معنی هشدار برای تغییر رنگ از قرمز به سبز است و با زرد شدن چراغ باید به حرکت خود ادامه داده و با احتیاط از تقاطع عبور نمایید.

۱۰ کدامیک از موارد زیر در خصوص استفاده از تلفن همراه در حین رانندگی صحیح تر است؟

- ۱ - هرگونه استفاده از تلفن همراه شامل صحبت کردن، ارسال پیامک، دیدن تصاویر و ... ممنوع است.
- ۲ - صرفاً صحبت کردن با تلفن همراه ممنوع است.
- ۳ - صرفاً ارسال پیامک با تلفن همراه در حین رانندگی ممنوع می باشد.
- ۴ - فقط خواندن پیامک از تلفن همراه در حین رانندگی ممنوع است.

۱۱ کدام مورد زیر از علائم خستگی و خواب آلودگی راننده نمی باشد؟

- ۱ - حرکات نوسانی سر و گردن و احساس سنگینی در پلک ها
- ۲ - عدم تمرکز در رانندگی و رویا پردازی در ذهن
- ۳ - عدم توانایی کنترل خودرو بین خطوط و کاهش سرعت واکنش نسبت به شرایط
- ۴ - کنترل خودرو و حرکت بین خطوط

۱۲ کدام چراغ راهنمایی معمولاً در محل برخورد راه اصلی با راه فرعی نصب می گردد؟

- ۱ - چراغ چشمک زن زرد
- ۲ - چراغ چشمک زن قرمز
- ۳ - چراغ چشمک زن قرمز برای ایست
- ۴ - چراغ چشمک زن قرمز برای عبور

۱۳ در شهرها و مناطق مسکونی، در خیابان های شریان اصلی حداکثر سرعت چند کیلومتر در ساعت است؟

- ۱ - ۱۰۰
- ۲ - ۹۵
- ۳ - ۶۰
- ۴ - ۸۵

۱۴ در این تقاطع، حق تقدم عبور به ترتیب با کدام یک می باشد؟



- ۱ - آبی، نارنجی، سبز، زرد
- ۲ - سبز، زرد، آبی، نارنجی
- ۳ - زرد، سبز، نارنجی، آبی
- ۴ - سبز، زرد، نارنجی، آبی

۱۵ کدام یک به مفهوم « ایست وسیله نقلیه برای هر مدت ممنوع » می باشد؟

- ۱ - ایستادن
- ۲ - ایستادن ممنوع
- ۳ - توقف
- ۴ - توقف ممنوع

۱۶ از کدام علامت آگاه سازی برای سبقت گرفتن در روز استفاده می شود؟

- ۱ - افزایش سرعت و تبدیل متناوب نور چراغ
- ۲ - تعویض نور چراغ بالا و پایین
- ۳ - اشاره با دست به همراه بوق متناوب
- ۴ - بوق کوتاه و چراغ راهنما

۱۷ چراغ هایی که حضور وسیله نقلیه و عرض آن را از سمت جلو نشان می دهد کدام است؟

- ۱ - چراغ جانبی جلو
- ۲ - چراغ جانبی عقب
- ۳ - چراغ های کوچک عقب
- ۴ - چراغ توقف

۱۸ پدال های مقابل پدال راننده به ترتیب از راست به چپ عبارتند از ...

- ۱ - کلاچ، گاز، ترمز
- ۲ - ترمز، گاز، کلاچ
- ۳ - گاز، ترمز، کلاچ
- ۴ - ترمز، کلاچ، گاز

۱۹ کدام جمله درباره کیسه هوا صحیح نمی باشد؟

- ۱ - فعال شدن کیسه هوا در حالتی که کمربند ایمنی بسته نشده باشد، نتایج مخرب تری خواهد داشت.
- ۲ - در خودروهای مجهز به کیسه هوا دیگر نیازی به کمربند ایمنی نمی باشد.
- ۳ - یکی از تکنولوژی های پیشرفته در زمینه ایمنی خودرو، سیستم کیسه هوا یا ایربگ می باشد.
- ۴ - کیسه هوا، هنگام تشخیص شربه ناشی از تصادف در کسری از ثانیه باز می شود.

۲۰ وظیفه کدام قطعه، ممانعت از ورود گرد و غبار و دیگر ذرات معلق به داخل موتور می باشد؟

- ۱ - فیلتر هوا
- ۲ - فیلتر سوخت
- ۳ - فیلتر روغن
- ۴ - فن

۲۱ برای انجام کمک های اولیه اگر آرامش ندارید چه باید بکنید؟

- ۱ - به مصدوم بگویند در حال حاضر آرامش ندارید و نمی توانید کاری برای او انجام دهید.
- ۲ - باید هرچه سریعتر صحنه را ترک نمایید و از محل حادثه دور شوید
- ۳ - باید سریعاً ارائه کمکهای اولیه را به اتمام رسانید.
- ۴ - کشیدن چند نفس عمیق و آرام به شما کمک می کند تا آرامش خود را بدست آورده و به شرایط محیط تسلط یابید.

۲۲ کدام یک از مهم ترین عوامل و خصوصیات است که موجب عملکرد ضعیف یک راننده می شود؟

- ۱ - عدم شناسایی و تشخیص نادرست حوادث غیرمنتظره و حادثه ساز
- ۲ - نداشتن تمرکز در حین رانندگی
- ۳ - نداشتن توجه کامل به ایمنی سایر کاربران ترافیک
- ۴ - تمام موارد



# آزمون شماره ۵



# آزمون آیین نامه راهنمایی و رانندگی

نام: اندکرم پناه سوم

زمان ۲۰ دقیقه

از گذاشتن هرگونه علامت بر روی برگه آزمون جدا خودداری فرمایید

۱۵

۲۲ در این سه راه، حق تقدم عبور به ترتیب با کدام یک می باشد؟



- ۱ - ابتدا ۳ سپس ۲ و ۱ با هم
- ۲ - به ترتیب ۱، ۲، ۳
- ۳ - ابتدا ۱ و ۲ با هم سپس ۳
- ۴ - به ترتیب ۳، ۲، ۱

۲۳ این شکل چه موردی را هشدار می دهد؟



- ۱ - زمانی که شرایط جاده استاندارد نیست و چاله و دست انداز وجود دارد باید احتیاط نمود.
- ۲ - در شرایطی مانند سه یا بیش بران که شعاع دید کم است باید با سرعتی کمتر از محدوده سرعت قانونی حرکت نمود.
- ۳ - در شرایطی که درجاده عبور پیاده یا دوچرخه سوار وجود دارد باید سرعت مناسب را انتخاب نمود.
- ۴ - در نزدیکی مراکز خرید از سرعت خود بکاهد.


۲۴ اگر هنگام رانندگی در آزاد راه تابلو خودرو پنجگ شود چه باید کرد؟

- ۱ - باید در همان محل توقف کرد
- ۲ - باید در خط توقف اضطراری توقف کرد
- ۳ - می توان در بین خطوط عبوری آزادراه توقف کرد
- ۴ - موارد ۱ و ۳ صحیح می باشند

۲۵ ایستادن یا توقف وسایل نقلیه در کدام یک از محل های زیر ممنوع است؟

- ۱ - در فاصله ۲۰ متری میدان یا تقاطع یا سه راهها یا تقاطع راه آهن
- ۲ - پیاده رو و گذرگاه پیاده
- ۳ - از ۵۰ متری ورودی مراکز آتش نشانی
- ۴ - از ۵۰ متری ورودی مراکز فوریت های پزشکی

۲۸ کدامیک از تابلوهای زیر به معنای خطر می باشد؟



۳۰ منظور از تخلفی از محدودیت های سرعتی در راه ها کدام است؟

- ۱ - رعایت سرعت مطمئنه
- ۲ - عدم رعایت سرعت مجاز تعیین شده
- ۳ - رعایت قوانین و مقررات تعیین شده
- ۴ - تجاوز به حریم قانونی دیگران

۲۷ کدام یک از تابلوهای زیر راننده را از انجام عملی باز می دارد؟



۲۹ در این شکل حق تقدم عبور عبارتست از:



- ۱ - سبز، خودروی امدادی
- ۲ - خودروی امدادی، سبز
- ۳ - خودروی امدادی، سبز، زرد
- ۴ - سبز، زرد، خودروی امدادی

۱ کدام تابلو، بیانگر تقاطع نمی باشد؟



۲ کدام یک جزو تابلوهای حاشیه نما نمی باشد؟



۳ این تابلو بیانگر چیست؟



- ۱ - عبور حیوانات وحشی
- ۲ - عبور حیوانات اهلی
- ۳ - فقط عبور گوزن
- ۴ - شروع منطقه حیات وحش

۴ این تابلویانگر چیست؟



- ۱ - حق تقدم عبور با وسیله نقلیه مقابل است
- ۲ - حق تقدم عبور با شما
- ۳ - جاده دو طرفه
- ۴ - عبور از هر دو سمت مجاز

۵ این تابلویانگر چیست؟



- ۱ - منطقه محدودیت سرعت ۳۰ کیلومتر
- ۲ - حداقل سرعت ۳۰ کیلومتر
- ۳ - سرعت بیش از ۳۰ کیلومتر بر ساعت ممنوع
- ۴ - پایان حداقل سرعت ۳۰ کیلومتر

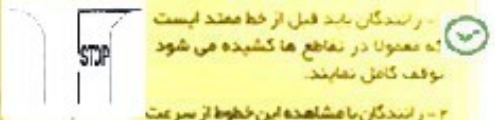
۶ این تابلو بیانگر چیست؟



- ۱ - سازمان امداد و نجات جاده ای
- ۲ - مرکز درمانی واقع در جاده
- ۳ - پست امدادی
- ۴ - بیمارستان



۷ کدام گزینه در مورد این شکل درست است؟



- ۱- رانندگان باید قبل از خط معتمد ایستاده معمولاً در تقاطع‌ها کشیده می‌شود توقف کامل نمایند.
- ۲- رانندگان با مشاهده این خطوط از سرعت خود کاسته و با احتیاط عبور نمایند.
- ۳- رانندگان با مشاهده این خطوط از سرعت خود کاسته و با رعایت حق تقدم عبور وارد راه اصلی شوند.
- ۴- رانندگان با مشاهده این خطوط از سرعت خود کاسته و با رعایت احتیاط و حق تقدم عبور وارد راه اصلی شوند.

۸ شکل مستطیل قائم معمولاً برای چه نوع تابلوهایی استفاده می‌شود؟



- ۱- شروع و پایان حق تقدم مسیر
- ۲- راهنما و هشدار
- ۳- دستوری و خدمات
- ۴- دستوری یا بازدارنده

۹ کدامیک از موارد زیر، مفهوم چراغ قرمز می‌باشد؟

- ۱- این چراغ نشان دهنده آن است که می‌توانید با احتیاط از تقاطع عبور نمایید.
- ۲- به معنی هشدار جهت تغییر رنگ چراغ است و باید با دیدن آن توقف سپس حرکت نمایید.
- ۳- با دیدن این چراغ شما می‌توانید به آرامی و در صورتیکه معبر خالی است از تقاطع عبور نمایید.
- ۴- این چراغ به معنی توقف می‌باشد و با دیدن آن باید پشت خط ایستاد توقف نمود.

۱۰ کدامیک از موارد زیر نشان دهنده بوجود آمدن حالت خستگی و خواب آلودگی در حین رانندگی است؟

- ۱- پلک زدن کنترل بین خطوط عدم تمرکز بر روی رانندگی و رویبرداری
- ۲- احساس سنگینی در پلکها کنترل آگاهانه بر روی سرعت خودرو عدم توانایی کنترل خودرو بین خطوط
- ۳- احساس سنگینی در پلکها عدم کنترل آگاهانه بر سرعت خودرو عدم تمرکز روی رانندگی و روی برداری در دهن
- ۴- افزایش سرعت واکنش نسبت به شرایط احساس سنگینی در پلکها عدم کنترل آگاهانه بر روی سرعت خودرو

۱۱ شکل و مواد صادر بر کدام یک از موارد زیر تأثیر منفی می‌گذارد؟

- ۱- توانایی ذهنی، هوشیاری و دید
- ۲- تشخیص موقعیتهای خطرناک
- ۳- تمرکز و کنترل سرعت
- ۴- تمام موارد

۱۲ هرگاه دو یا چند وسیله نقلیه از دو یا چند راه مختلف به تقاطع هم عرض برسند حق تقدم عبور با وسیله ای است که .....

- ۱- دارای سرنشین بیشتری است
- ۲- به سمت راست گردش می‌کند
- ۳- در طرف راست وسیله نقلیه دیگر قرار دارد
- ۴- دارای شتاب و سرعت بیشتری می‌باشد

۱۵ ایستادن ممنوع همان ..... است.

- ۱- توقف
- ۲- توقف مطلقاً ممنوع
- ۳- توقف ممنوع
- ۴- ایست وسیله نقلیه در زمان کوتاه

۱۶ برای کاستن سرعت هنگامی که وسیله نقلیه فاقد چراغ راهنما باشد باید .....

- ۱- دست راست را به طرف پایین نگهداشت
- ۲- دست چپ را به طرف بالا نگهداشت
- ۳- دست چپ را به طور افقی نگهداشت
- ۴- دست چپ را به طور افقی از بالا به پایین حرکت داد

۱۷ تردد کدام نوع وسیله نقلیه در خط سوم آزاد راه ها ممنوع نیست؟

- ۱- اتوبوس
- ۲- وانت ها
- ۳- مینی بوس
- ۴- انواع بارکش ها با وزن بیش از ۳ / ۵ تن

۱۸ چه هنگام می‌توان از ترمز دستی استفاده نمود؟

- ۱- هنگام توقف در سرازیری ها یا سربالایی ها
- ۲- در هر شرایطی
- ۳- تنها در سررتهای بالا
- ۴- هنگام توقف خودرو و یا در سررتهای بسیار پایین

۱۹ میزان کارایی روغن های معمولی موتور معمولاً چند کیلومتر می‌باشد؟

- ۱- حدود ۲ هزار کیلومتر
- ۲- حدود ۴۰ تا ۵۰ هزار کیلومتر
- ۳- حدود ۸ تا ۱۰ هزار کیلومتر
- ۴- ۵۰ هزار کیلومتر

۲۰ کدام یک جزو سیستم انتقال قدرت نمی‌باشد؟

- ۱- کلاچ
- ۲- میل لنگ
- ۳- گیربکس
- ۴- دیفرانسیل

۲۱ کدام یک از موارد زیر در خصوص ایمن کردن صحنه حادثه می‌باشد؟

- ۱- پارک خودرو در فاصله مناسب استفاده از تابلو اعلان خطر مطمئن شدن از اینکه خطری شما را تهدید نمی‌کند.
- ۲- پارک خودرو در فاصله مناسب کشیدن چند نفس عمیق و آرام استفاده از تابلو اعلان خطر
- ۳- استفاده از تابلو اعلان خطر گرفتن شرح حال از مصدومین کشیدن چند نفس آرام و عمیق
- ۴- پارک خودرو در فاصله مناسب بررسی وضعیت مصدومین دور کردن مصدوم از صحنه حادثه

۲۲ علائم خستگی در رانندگی چیست؟

- ۱- تمرکز در حین رانندگی
- ۲- تشخیص حوادث غیرمنتظره
- ۳- تشخیص حوادث حادثه ساز
- ۴- کم شدن توجه به رانندگی و کاهش سرعت تصمیم گیری

# آزمون شماره ۶






# نامه راهنمایی و رانندگی

زمان ۲۰ دقیقه

از گذاشتن هرگونه علامت بر روی برگه آزمون جدا خودداری فرمایید

۱ کدام تابلو، بیانگر جاده دوطرف می باشد؟



(۱)

(۲)

۲ عنوان این تابلو چیست؟



۱- پیجهای پی در پی (اولین پیج به چپ)

۲- پیجهای پی در پی (اولین پیج به راست)

۳- پیج به راست

۴- پیج به چپ

۲ این تابلو بیانگر چیست؟



۱- عبور حیوانات وحشی

۲- عبور حیوانات اهلی

۳- منطقه حیات وحش

۴- محل عبور حیوانات

۴ این تابلو بیانگر چیست؟



۱- عبور موتور گازی ممنوع

۲- عبور دوچرخه ممنوع

۳- فقط عبور دوچرخه

۴- عبور چرخ دستی ممنوع

۵ این تابلو بیانگر چیست؟



۱- پایان خیابان اصلی

۲- آزادراه

۳- پایان آزادراه

۴- پایان تقاطع راه آهن

۶ این تابلو بیانگر چیست؟



۱- حاشیه نمای راست

۲- پایان جدا کننده

۳- جریان همگرا

۴- هدایت مسیر با جدا کننده

۲۲ حمل مسافر در قسمت بار .....

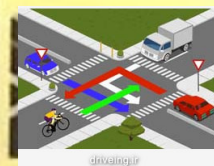
۱- مجاز است

۲- در صورت رعایت ایمنی مجاز است

۳- ممنوع است

۴- در مسافت های کوتاه مجاز است

۲۴ در این تقاطع، حق تقدم عبور به ترتیب با کدام یک می باشد؟



۱- آبی فرمز، دوچرخه کاسیوت

۱- دوچرخه کاسیوت، آبی فرمز

۳- کاسیوت، دوچرخه آبی فرمز

۴- فرمز آبی، دوچرخه کاسیوت

۲۵ ایستادن یا توقف وسایل نقلیه در کدام یک محل های زیر ممنوع است؟

۱- از ۵۰ متری شیرهای آتش نشانی

۲- در فاصله ۵۰ متری میدان یا تقاطع یا سه راهها یا تقاطع راه آهن

۳- از ۱۰۰ متری ابتدا تا انتهای پیج ها

۴- از ۱۵ متری ورودی بیمارستان ها

۲۶ تحت چه شرایطی می توان در تقاطع ها سبقت گرفت؟

۱- اگر تقاطع خلوت باشد

۲- اگر چراغ تقاطع چشمک زن باشد

۳- سبقت در تقاطع ها ممنوع است

۴- اگر مسیر یک طرفه باشد

۲۸ در صورت مشاهده تابلو مقابل متظر چه چیزی باید بود؟



۱- گردش به چپ ممنوع

۲- پیج های پی در پی (اولین پیج به چپ)

۳- پیج به چپ

۴- پیج به راست

۲۷ در این تقاطع، حق تقدم عبور به ترتیب با کدام یک می باشد؟



۱- آبی، قهوه ای

۲- قهوه ای، آبی

۳- هر سه خودرو با هم می توانند حرکت کنند

۴- فقط خودروی قهوه ای مجاز به حرکت می باشد

۳۰ با مشاهده چراغ چشمک زن زرد در تقاطع چه عملی را انجام می دهید؟

۱- با زدن بوق و با سرعت اولیه به حرکت خود ادامه دهید

۲- قبل از خط ایست توقف کامل کنید

۳- از سرعت خود بکاهید و با احتیاط عبور کنید

۴- با همان سرعت از تقاطع عبور نمایید



۲۹ در بحث مفهوم رنگها و علائم عبور و مرور، مفهوم رنگ قهوه ای کدام است؟



۱- راهنمای خدمات

۲- راهنمای مناطق تفریحی و گردشگری و فرهنگی

۳- علائم دستوری

۴- راهنمای مسیر در سایر راه ها



۷ بلند کردن دستهای پلیس به دو طرف و بطور افقی به چه معناست؟  
 ۱- کلبه وسایل نقلیه مقابل پلیس قرار گرفته اند باید بایستند.  
 ۲- کلبه استفاده کنندگان از راه که جهت حرکت آنها در امتداد جهت نشان داده شده با دست یا دستهای پلیس میباشد باید بایستند.  
 ۳- کلبه وسایل نقلیه که پشت سر پلیس قرار گرفته اند باید بایستند.  
 ۴- کلبه وسایل نقلیه که در امتداد جهت دست پلیس قرار گرفته اند باید سریع عبور نمایند.



۸ از مثلث مساوی الاضلاع (نشسته روی قاعده) معمولاً برای چه نوع تابلوهایی استفاده می شود؟  
 ۱- دستوری و خدمات  
 ۲- علامت راهنما  
 ۳- علامت هشدار دهنده برای خط  
 ۴- دستوری یا بازدارنده



۹ کدامیک از موارد زیر در خصوص عبور از روی خط آهن صحیح می باشد؟  
 ۱- در طول عبور از خط آهن دنده خودرو باید از دنده سنگین به دنده سبک تغییر داد.  
 ۲- در طول عبور از خط آهن دنده خودرو باید از دنده سبک به دنده سنگین تغییر داد.  
 ۳- در طول عبور از خط آهن دنده خودرو را نباید تعویض نمود.  
 ۴- قبل از رسیدن به خط آهن باید سرعت را افزایش داده و با سرعت از خط آهن عبور نمود.

۱۰ کدامیک از موارد زیر صحیح است؟  
 ۱- حمل مسافر در قسمت بار یا صندوق عقب ممنوع است.  
 ۲- سبقت گرفتن برای اتوبوسها و کامیونها ممنوع است.  
 ۳- از ۱۵۰ متر مانده به ورودی تونلها و پل ها سبقت ممنوع است.  
 ۴- از ۱۰۰ متر مانده به پیچ ها تا ۱۰۰ متر پس از آن سبقت گرفتن ممنوع است.

۱۱ در چه شرایطی می توان مانع سبقت گرفتن خودروی در حال سبقت شد؟  
 ۱- زمانی که هوا رو به تاریکی است  
 ۲- زمانی که سرعت خودرو سبقت گیرنده خیلی زیاد باشد  
 ۳- زمانی که شرایط بارانی یا برفی است  
 ۴- در هیچ شرایطی

۱۲ در کنترل و تنظیم عبور و مرور کدام مورد بر سایرین مقدم است؟  
 ۱- خط کشی و ترسیم ها  
 ۲- چراغ راهنمایی  
 ۳- فرمان پلیس  
 ۴- تابلوهای راهنمایی

۱۳ حداکثر سرعت در ازادراه های بیرون شهری برای انواع سواری چند کیلومتر در ساعت است؟  
 ۱- ۱۲۵  
 ۲- ۱۰۰  
 ۳- ۱۲۰  
 ۴- ۹۵

۱۴ در تقاطع هم عرض اگر دو وسیله نقلیه ای که رو بروی یکدیگر در حرکتند بخواهند با هم وارد خیابان مجاور واحدی شوند حق تقدم عبور با وسیله نقلیه ای است که .....  
 ۱- در طرف راست وسیله نقلیه دیگر قرار دار.  
 ۲- به سمت راست گردش می کند.  
 ۳- سرعت بیشتری دارد  
 ۴- در حال گردش به چپ می باشد.

۱۵ منظور از ایست وسیله نقلیه در زمان کوتاه کدام است؟  
 ۱- ایستادن  
 ۲- ایستادن ممنوع  
 ۳- ایست وسیله نقلیه برای هر مدت ممنوع  
 ۴- پارک خودرو

۱۶ هنگام توقف اگر وسیله نقلیه چراغ راهنما نداشته باشد باید .....  
 ۱- دست راست را به طرف پایین نگهداشت  
 ۲- دست چپ را به طرف پایین نگهداشت  
 ۳- دست چپ را به طور افقی نگهداشت  
 ۴- دست راست را به طور افقی نگهداشت

۱۷ در جاده های اصلی بیرون شهر، حداکثر سرعت در شب ها چند کیلومتر در ساعت است؟  
 ۱- ۸۵  
 ۲- ۹۵  
 ۳- ۶۵  
 ۴- ۷۰

۱۸ مهمترین نکته ای که در خرید خودرو باید در نظر داشت چیست؟  
 ۱- سطح ایمنی  
 ۲- نوع خودرو  
 ۳- زیبایی ظاهری  
 ۴- تجهیزات رفاهی

۱۹ سطح روغن موتور را با چه وسیله می توان کنترل نمود؟  
 ۱- پمپ روغن  
 ۲- در مخزن روغن  
 ۳- فیلتر روغن  
 ۴- سیم روغن (گیج روغن)

۲۰ مهم ترین وظایف روغن در موتور چیست؟  
 ۱- صرفاً روان کاری قطعات  
 ۲- خنک کاری قطعات  
 ۳- روانکاری قطعات، کمک به خنک کاری  
 ۴- جلوگیری از ورود گرد و غبار به موتور

۲۱ در کدامیک از موارد زیر دور کردن خود و اطرافیان از صحنه تصادف از اهمیت بیشتری نسبت به سایر موارد برخوردار است؟  
 ۱- در حوادثی که خطراتی نظیر جاری شدن مواد خطرناک یا گازهای سمی وجود دارد.  
 ۲- در حوادثی که تعداد مصدومین کم می باشد.  
 ۳- در تصادفات خودروهای عمومی که امداد رسانی کلبه افراد ممکن نمی باشد.  
 ۴- در مواردی که خودرو در کنار راه قرار نداشته باشد.

۲۲ کدام گزینه نادرست است؟  
 ۱- حرکات نوسانی سر و گردن از علائم خواب آلودگی است.  
 ۲- عدم درک مناسب از موقعیت و شرایط موجود از نشانه های خستگی در رانندگی است.  
 ۳- عواطف و احساسات من سیستم اعصاب رانندگان تاثیر خاصی ندارد.  
 ۴- یکی از نشانه های خستگی که عملکرد راننده را مختل می سازد مشروبات الکلی است.



# آزمون شماره ۷



## بن نامه راهنمایی و رانندگی

کدام نامه راهنمایی و رانندگی (نوم)

زمان ۲۰ دقیقه

از گذاشتن هرگونه علامت بر روی برکه آزمون جدا خودداری فرمایید

V



۲ عنوان این تابلو چیست؟


۱- پیچ به راست

۲- پیچ به چپ

۳- گردش به راست ممنوع

۴- گردش به چپ ممنوع

۱ کدام تابلو، بیانگر تقاطع جاده و راه آهن در ۱۰۰ متری می باشد؟



۳ این تابلویانگر چیست؟



۱ - تقاطع

۲ - محدوده خطر

۳ - تقاطع با راه آهن

۴ - خطوط پرواز هواپیما



۴ این تابلویانگر چیست؟

۱ - سبقت موتور سیکلت ممنوع

۲ - عبور وسائط نقلیه موتوری ممنوع

۳ - عبور موتور سیکلت ممنوع

۴ - عبور موتورگازی ممنوع



۶ این تابلو بیانگر چیست؟

۱ - ورود به راه اصلی از راست

۲ - هدایت مسیر با جدا کننده

۳ - تقاطع فرعی با اصلی

۴ - جریان همگرا



۵ این تابلویانگر چیست؟

۱ - پایان شهر

۲ - ابتدای شهر

۳ - ورود به شهر

۴ - ابتدای منطقه مسکونی

۲۴ کدامیک از موارد زیر نشان دهنده بوجود آمدن حالت خستگی و خواب آلودگی در حین رانندگی است؟

۱- پلک زدن، کنترل بین خطوط، عدم تمرکز بر روی رانندگی و رویا پردازی.

۲- احساس سنگینی در پلکها، کنترل آگاهانه بر روی سرعت خودرو، عدم توانایی کنترل خودرو بین خطوط.

۳- احساس سنگینی در پلکها، عدم کنترل آگاهانه بر سرعت خودرو، عدم تمرکز روی رانندگی و رویا پردازی در ذهن.

۴- افزایش سرعت واکنش نسبت به شرایط احساس سنگینی در پلکها عدم کنترل آگاهانه بر روی سرعت خودرو.

۲۳ این شکل چه موردی را هشدار می دهد؟



۱ - زمانی که شرایط جاده استاندارد نیست باید احتیاط نمود.

۲- موتور سیکلت ها همیشه دارای حق تقدم هستند.

۳- هنگام گردش باید مراقب بود فضای کافی برای موتور سواران احتمالی در نظر گرفت

۴- همواره از گردش به چپ خودداری نمایید.

۲۶ خودرویی که دور آن با دایره مشخص شده است، به کدام یک از خودروها باید اجازه عبور بدهد؟



۱ - خودروهای ۱ و ۲

۲ - خودروهای ۱ و ۳

۳ - خودروهای ۲ و ۳

۴ - تمام خودروها

۲۵ کدام گزینه درست است؟

۱- حرکت با دنده خلاص در سرازیری ها بدون اشکال است.

۲- حرکت در پوشش وسایل، نقلیه امدادی برای وسایل نقلیه دیگر ممنوع است.

۳- وسایل نقلیه می توانند از روی لوله های آب آتش نشانی که برای خاموش کردن آتش در خیابان قرار گرفته اند عبور نمایند.

۴- رانندگی وسیله نقلیه ای که بیش از ظرفیت مندرج در کارت مشخصات، بار یا مسافر گرفته مجاز است.

۲۸ مفهوم این تابلو چیست؟



۱- خطر در گردش به راست

۲- خطر در گردش به چپ

۳- پیچهای پی در پی اولین پیچ به چپ

۴- پیچهای پی در پی اولین پیچ به راست

۲۷ در صورتیکه در وسط تقاطع چراغ راهنمایی زرد شود .....

۱ - توقف نموده بلافاصله گردش به راست نمایید.

۲- توقف نموده و با دنده عقب به پشت چراغ راهنمایی برگردید.

۳- در همان محل توقف نموده و اجازه عبور را به سایرین بدهید.

۴- با احتیاط کامل و سرعت کم عبور نمایید

۳۰ کدام مورد از مصادیق حقوق شهروندی در رانندگی نمی باشد؟

۱- حرکت بین خطوط ترافیک

۲- تخلف از محدودیت های سرعت در راهها

۳- رعایت قوانین مرتبط با سرعت

۴- رعایت سرعت مجاز در رانندگی

۲۹ مفهوم این تابلو چیست؟



۱ - پیچ به راست

۲ - دور زدن ممنوع

۳ - پیچ به چپ

۴ - گردش به چپ ممنوع



۷ رنگ فرمزر در علامت عبور و مرور به چه مفهومی است؟



- ۱- حرکات مجاز و راهنمای مسیر در بزرگراه ها
- ۲- هشدارهای عمومی و انجام عملیات ساختمانی
- ۳- منع کننده یا ایست
- ۴- راهنمای مناطق آموزشی

۸ از شکل دایره معمولاً برای چه نوع علامت عبور و مرور و تابلوهایی استفاده می شود؟



- ۱- دستوری و خدمات
- ۲- علامت راهنما
- ۳- علامت هشدار دهنده برای خطر
- ۴- دستوری یا بازدارنده

۹ کدامیک از موارد زیر صحیح می باشد؟

- ۱- زمانی که جاده خیس یا مرطوب است زمان توقف خودرو کاهش می یابد.
- ۲- استفاده از سیستم تویبه خودرو در شرایط بارندگی به منظور جلوگیری از عرق کردن شیشه های خودرو
- ۳- استفاده از نور بالای چراغها در شرایط مه و دود
- ۴- حرکت در منتهی الیه سمت چپ جاده هایی که فاقد خط کشی است.

۱۰ کدامیک از موارد زیر در خصوص استفاده از کمربند ایمنی صحیح تر است؟

- ۱- بستن کمربند ایمنی برای سرنشینان زیر ۱۲ سال در ردیف جلو الزامی است.
- ۲- بستن کمربند ایمنی برای سرنشینان ردیف جلو الزامی است.
- ۳- بستن کمربند ایمنی برای سرنشینان ردیف عقب الزامی است.
- ۴- بستن کمربند ایمنی برای سرنشینان ردیف جلو و عقب الزامی است

۱۱ در چه شرایطی باید سرعت خود را کمتر از محدوده سرعت مجاز انتخاب نمود؟

- ۱- زمانی که شرایط جاده استاندارد نیست
- ۲- هنگامی که شعاع دید کم است
- ۳- در شرایطی که در جاده و یا خیابان عابر پیاده یا دوچرخه سوار وجود دارد
- ۴- تمام موارد

۱۲ هدف از طراحی شانه راه در دو طرف خط های عبور و رفت و برگشت کدام است؟

- ۱- تغییر سرعت برای پیوست به جریان ترافیک
- ۲- خط کمکی برای تردد و افزایش ظرفیت
- ۳- توقف اضطراری
- ۴- ایستادن برای استراحت

۱۳ حداقل سرعت در ازادراه های درون شهری چند کیلومتر در ساعت است؟

- ۱- ۵۰ کیلومتر در ساعت
- ۲- ۷۰ کیلومتر در ساعت
- ۳- ۳۰ کیلومتر در ساعت
- ۴- ۶۰ کیلومتر در ساعت

۱۴ چند متر بعد از تونل ها و پل ها سبقت گرفتن آزاد است؟

- ۱- سبقت از انتهای آنها مجاز است
- ۲- ۵۰ متری
- ۳- ۱۰۰ متری
- ۴- ۷۰ متری

۱۵ در آیین نامه راهنمایی و رانندگی منظور از سلب اعتبار قانونی گواهینامه رانندگی کدام است؟

- ۱- انقضا، گواهینامه
- ۲- ابطال گواهینامه
- ۳- توقیف گواهینامه
- ۴- استرداد گواهینامه

۱۷ در جاده های اصلی، حداکثر سرعت در روز چند کیلومتر در ساعت است؟

- ۱- ۱۲۰
- ۲- ۱۰۰
- ۳- ۱۱۰
- ۴- ۹۵

۱۹ کدام گزینه درباره ضدیخ صحیح نمی باشد؟

- ۱- مایع ضدیخ از یخ زدگی آب در سرما جلوگیری می کند.
- ۲- عدم استفاده از ضدیخ در تابستان می تواند منجر به جوش آوردن زودتر موتور شود.
- ۳- ضدیخ در جلوگیری از زنگ زدگی رادیاتور و قطعات سیستم خنک کاری موثر است.
- ۴- بهتر است کل مخزن رادیاتور به جای آب از ضدیخ پر شود

۲۱ در ارزیابی مصدومین کدامیک از مصدومین را باید در اولویت انجام کمکهای اولیه قرار داد؟

- ۱- مصدومینی که آسیبهای آنها کمتر است و با انجام کمکهای اولیه سریعاً بهبود می یابند.
- ۲- مصدومینی که آسیبهای آنها بسیار شدید است نظیر سوختگی ها یا زخمهای وسیع
- ۳- مصدومینی که از سن بالاتری نسبت به سایر مصدومین برخوردارند.
- ۴- کودکان در اولویت انجام کمکهای اولیه هستند.

۱۶ برای گردش به چپ اگر وسیله نقلیه موتوری فاقد چراغ راهنما باشد باید .....  
۱- دست چپ را به طور افقی نگهداشت

- ۲- دست چپ را به طرف بالا نگهداشت
- ۳- دست چپ را به طرف پایین نگهداشت
- ۴- دست راست را به طرف بالا نگهداشت

۱۸ در این تقاطع هم عرض، حق تقدم عبور به ترتیب با کدام یک می باشد؟

- ۱- دوچرخه، موتورسیکلت، سواری
- ۲- سواری، موتورسیکلت، دوچرخه
- ۳- موتورسیکلت، دوچرخه، سواری
- ۴- سواری، دوچرخه، موتورسیکلت

۲۰ در موتور خودروها برای تصفیه روغن از چه وسیله ای استفاده می شود؟

- ۱- مخزن روغن
- ۲- پمپ روغن
- ۳- فیلتر روغن
- ۴- صافی بنزین

۲۲ خودروهایی که دورشان خط کشیده شده، دچار چه خطایی شده اند؟

- ۱- سرعت غیر مجاز
- ۲- عدم رانندگی بین خطوط
- ۳- سبقت از سمت چپ وسیله نقلیه
- ۴- رانندگی با سرعت غیر ایمن



# آزمون شماره ۸





### اهمیت آئین نامه راهنمایی و رانندگی

زمان ۲۰ دقیقه

از گذاشتن هرگونه علامت بر روی برکه آزمون جدا خودداری فرمایید

۱ کدام تابلو، بیانگر تقاطع جاده و راه آهن بدون راهبند در ۳۰۰ متری می باشد؟



- ۱- شیب سرآزیری ۱۰ درصد
- ۲- شیب سرآزیری ۲۰ درصد
- ۳- سربالایی خطرناک
- ۴- سرآزیری خطرناک

۲ این تابلویانگر چیست؟



۳ این تابلو بیانگر چیست؟



- ۱- درباره وجود چراغ راهنمایی هشدار می دهد
- ۲- عبور از چراغ قرمز ممنوع است
- ۳- درباره خراب بودن چراغ راهنمایی هشدار می دهد
- ۴- با رعایت احتیاط می توان از تقاطع عبور نمود

۴ این تابلویانگر چیست؟



- ۱- عبور کامیون با بار ممنوع
- ۲- مسیر کامیون حامل کالای خطرناک
- ۳- عبور کامیون ممنوع
- ۴- عبور وسائط نقلیه با محموله خطرناک ممنوع

۵ این تابلو بیانگر چیست؟



- ۱- گذرگاه عبور پیاده
- ۲- مدرسه
- ۳- گذرگاه پیاده
- ۴- عبور اطفال



۲۳ در این نقاط هم عرض ، حق تقدم عبور به ترتیب با کدام یک می باشد؟



- ۱- موتورسیکلت-سواری، اتوبوس
- ۲- سواری، اتوبوس-موتورسیکلت
- ۳- موتورسیکلت-اتوبوس، سواری
- ۴- اتوبوس، سواری-موتورسیکلت

- ۱- آلودگی هوا ناشی از مصارف خانگی
- ۲- آلودگی هوا ناشی از صنایع
- ۳- آلودگی هوا ناشی از تردد روزانه خودرو
- ۴- سیستم حمل و نقل پایدار شهری

۲۴ یکی از مهم ترین مشکلات زیست محیطی کلان شهرهای کشور کدام است؟

- ۱- کامیون ها ممکن است ناگهان کنارکشیده و توقف کنند.
- ۲- ترمز کامیون ها به خوبی ترمز اتومبیل های دیگر نیست.
- ۳- کامیونها نسبت به اتومبیل ها، طولی ترند و برای سبقت از آنها به مسافت و زمان بیشتری نیاز است.
- ۴- کامیون ها با سرعت کمتری از تپه ها بالا می روند.

۲۵ کدام گزینه درست است؟

- ۱- حرکت با دنده خلاص در سرآزیری ها بدون اشکال است.
- ۲- حرکت در پوشش وسایل نقلیه امدادی برای وسایل نقلیه دیگر ممنوع است.
- ۳- وسایل نقلیه می توانند از روی لوله های آب آتش نشانی که برای خاموش کردن آتش در خیابان قرار گرفته اند، عبور نمایند.
- ۴- راندن وسیله نقلیه ای که بیش از ظرفیت مندرج در کارت مشخصات، بار یا مسافر گرفته مجاز است.

۲۶ به چه دلیل سبقت گرفتن از کامیون طولی (کشنده و پدک) خطرناکتر از سبقت گرفتن از یک اتومبیل معمولی است؟

- ۱- چون چراغ سبز است می توان عبور کرد.
- ۲- باید صبر کرد تا راه باز شود و نباید تقاطع را مسدود نمود.
- ۳- می توان با بوق زدن، خودروهای جلویی را وادار به حرکت نمود.
- ۴- می توان با چراغ زدن، خودروهای جلویی را وادار به حرکت نمود.

۲۷ رانندگان با مشاهده چراغ قرمز چشمک زن در تقاطع باید چه عملی انجام دهند؟

- ۱- قبل از ورود به تقاطع یا گذرگاه عبور پیاده توقف، پس از اطمینان از عدم وجود خطر تصادف عبور کنند.
- ۲- با سرعت بالا و بی درنگ از تقاطع عبور نمایند.
- ۳- از سرعت خود کاسته و با احتیاط عبور کنند.
- ۴- عبور آزاد است ولی باید با سرعت کم از تقاطع عبور کنند.

۲۸ اگر بر سر چهارراهی چراغ سبز باشد اما داخل تقاطع بدلیل ترافیک بسته باشد چه باید کرد؟

- ۱- گذرگاه عبور پیاده
- ۲- مدرسه
- ۳- گذرگاه پیاده
- ۴- عبور اطفال

۲۹ محدودیتهای حرکت و سرعت در جاده ها وسیله ..... تعیین می گردد.

- ۱- علائم و تابلوها
- ۲- رانندگان
- ۳- سازمان راهداری
- ۴- افراد صلاحیت دار



۷ راننده ای که دست چپ را به طرف بالا نگهداشته به چه معناست؟



- ۱- توقف
- ۲- گردش یا تغییر مسیر به چپ
- ۳- گردش یا تغییر مسیر به راست
- ۴- کاهش سرعت و پارک خودرو

۸ تبعیت از این تابلوها الزامی و در صورت عدم توجه، رانندگان مرتکب خلاف و نقض قانون می گردند:

- ۱- تابلوهای هشدار دهنده
- ۲- تابلوهای اخطاری
- ۳- تابلوهای آگاهی دهنده غیر دستوری
- ۴- تابلوهای آگاهی دهنده دستوری

۹ کدامیک از موارد زیر در خصوص رانندگی در شرایط ریزش برف و باران صحیح می باشد؟

- ۱- باید چراغهای نور پایین را روشن نمود
- ۲- استفاده از برف پاکن فقط در صورت شدت یافتن ریزش باران
- ۳- عدم استفاده از سیستم تهویه خودرو
- ۴- عدم استفاده از چراغها در روز

۱۰ در کدامیک از موارد زیر سبقت ممنوع است؟

- ۱- هنگامی که وسیله نقلیه ای در فاصله ای نزدیک و غیر ایمن از روبرو در حال حرکت است
- ۲- از ۱۰۰ متر مانده به پیچها تا ۱۰۰ متر پس از آن
- ۳- از ۱۵۰ متر مانده به ورودی تونل ها و پل ها
- ۴- برای اتوبوسها و کامیونها در معابر برون شهری

۱۱ چرا رانندگی با سرعت زیاد خطرناکتر است؟

- ۱- صدمات و تلفات در تصادفات بیشتر خواهد بود.
- ۲- کنترل وسیله نقلیه سخت تر خواهد شد.
- ۳- دیگران، زمان واکنش بسیار کمی داشته، توانایی گریز از تصادف را نخواهند داشت.
- ۴- تمام موارد

۱۲ منظور از طراحی خط ایست در ورودی تقاطع کدام است؟

- ۱- اعلام خطر به کاربران ترافیک
- ۲- حرکت عابران پیاده بر روی خط مورد نظر
- ۳- مرز توقف وسایل نقلیه
- ۴- رویت شبکه معابر هنگام تاریکی

۱۳ در راه های یک طرفه، حرکت برخلاف مسیر تعیین شده ....

- ۱- با دادن علامت و زدن چراغ راهنما مانعی ندارد
- ۲- ممنوع است
- ۳- برای گردش به چپ آزاد است
- ۴- با رعایت حق تقدم آزاد است.

۱۴ از چند متری ورودی تونل ها سبقت گرفتن ممنوع است؟

- ۱- ۲۰۰ متری
- ۲- ۱۵۰ متری
- ۳- ۱۸۰ متری
- ۴- ۱۰۰ متری

۱۵ خطی عبوری که به منظور تغییر سرعت، انجام حرکات گردش و یا افزایش ظرفیت راه در کنار خط عبور ایجاد می شود؟

- ۱- خط ویژه
- ۲- خط تغییر سرعت
- ۳- خط کمکی
- ۴- خط ایست

۱۶ در صورتی که در وسط تقاطع، چراغ راهنمایی زرد شود ....

- ۱- با احتیاط کامل و سرعت کم عبور نمایید
- ۲- توقف نموده و با دنده عقب به پشت چراغ راهنمایی برگردید.
- ۳- در همان محل توقف نموده و اجازه عبور را به سایرین بدهید.
- ۴- توقف نموده بلافاصله گردش به راست نمایید.

۱۷ در بزرگراه های برون شهری و مناطق غیرمسکونی، حداکثر سرعت برای انواع وانت بارها چند کیلومتر در ساعت است؟

- ۱- ۱۲۵
- ۲- ۱۲۰
- ۳- ۱۱۰
- ۴- ۱۳۰

۱۸ ترمز دستی به عنوان ترمز ..... و ترمز پایی به عنوان ترمز ..... یا ترمز سرویس شناخته می شود.

- ۱- سرعتی - قدرتی
- ۲- اولیه - ثانویه
- ۳- قدرتی - سرعتی
- ۴- ثانویه - اولیه

۱۹ کدام یک از موارد زیر جزو سیستم اگزوز خودرو می باشد؟

- ۱- فیلتر هوا
- ۲- مبدل کاتالیست
- ۳- نشانگر سوخت
- ۴- فن

۲۰ کدام یک جزو سیستم خنک کاری موتور نمی باشد؟

- ۱- ترموستات
- ۲- رادیاتور
- ۳- میل لنگ
- ۴- فن

۲۱ کدامیک از موارد زیر جزء نیازهای حیاتی معنوم می باشد؟

- ۱- بازبودن راه تنفس، تنفس به اندازه کافی، گردش خون مناسب
- ۲- بسته بودن راه تنفس، تنفس کمتر از حد معمول، عدم وجود خونریزی
- ۳- بازبودن راه تنفس، خونریزی شدید، گردش خون مناسب
- ۴- بازبودن راه تنفس، داشتن درجه حرارت بالا، گردش خون مناسب

۲۲ راننده خودروی نشان داده شده در این شکل دچار چه خطایی شده است؟



- ۱- عدم رانندگی بین خطوط
- ۲- عدم رعایت فاصله اولی مناسب
- ۳- رانندگی با سرعت بالا
- ۴- روشن نکردن چراغ ها



# آزمون شماره ۹



# آزمون آیین نامه راهنمایی و رانندگی

پننامه رانندگی پایه سوم

زمان ۲۰ دقیقه

از گذاشتن هرگونه علامت روی این برگه خودداری فرمایید

9

۱ کدام تابلو ممنوعیت عبور وسایل نقلیه موتوری را بیان می کند؟



- ۱ - پل متحرک
- ۲ - سرازیری خطرناک
- ۳ - سربالایی خطرناک ۱۰ درصد
- ۴ - شیب سرازیری ۱۰ درصد

۲ عنوان این تابلو چیست؟



۳ این تابلو بیانگر چیست؟



- ۱ - عبور خودروی کشاورزی ممنوع
- ۲ - عبور گاری ممنوع
- ۳ - عبور چرخ دستی ممنوع
- ۴ - عبور با محموله خطرناک ممنوع



۴ این تابلو بیانگر چیست؟

- ۱ - درباره مشغول به کار بودن کارگران هشدار می دهد
- ۲ - احتمال ریزش سنگ را مطرح می کند.
- ۳ - نزدیک بودن یک تونل را هشدار می دهد.
- ۴ - خطر برخورد با عابر پیاده را مطرح می کند.

۵ این تابلو بیانگر چیست؟



- ۱ - حداقل سرعت در خط عبور
- ۲ - حداقل سرعت
- ۳ - سرعت توصیه شده
- ۴ - فاصله از نصب تابلو



- ۱ - محدوده توقف ممنوع در طول شبانه روز
- ۲ - پارکینگ
- ۳ - پارک سوار
- ۴ - محدوده پارک آزا

۲۳ مفهوم این تابلو چیست؟



- ۱ - حداقل سرعت در خط های عبور
- ۲ - حداکثر سرعت در خط های عبور
- ۳ - حداقل سرعت توصیه شده
- ۴ - سرعت بیش از ۵۰ کیلومتر در ساعت ممنوع

۲۴ این شکل بیانگر چه موضوعی است؟



- ۱ - جهت فرار کبری چرخ هاهنگم پارک در سربالایی دارای جدول
- ۲ - جهت فرار کبری چرخ هاهنگم پارک در سرازیری دارای جدول
- ۳ - نحوه حرکت دنده عقب در سربالایی
- ۴ - نحوه حرکت در سرازیری

۲۵ در این تقاطع حق تقدم عبور به ترتیب با کدام یک می باشد؟

- ۱ - قرمز، زرد، آبی
- ۲ - زرد، آبی، قرمز
- ۳ - قرمز، آبی، زرد
- ۴ - آبی، زرد، قرمز



۲۶ درباره محل پارک خودرو کدام گزینه غلط است؟

- ۱ - پارک کردن در خطوط شطرنجی داخل تقاطع ممنوع است
- ۲ - پارک کردن در حریم تقاطعها و گذرگاههای عابر پیاده ممنوع است
- ۳ - در محلی باید پارک کرد که مانع سایر استفاده کنندگان از راه نشد
- ۴ - پارک کردن مقابل درب ورودی ساختمانها و منازل مجاز است

۲۷ کدام مورد از انواع آلودگی سهم زیادی از آلودگی ترافیک شهری را تشکیل می دهد؟

- ۱ - آلودگی هوا ناشی از کارخانجات
- ۲ - آلودگی هوا ناشی از منابع خانگی
- ۳ - آلودگی شنیداری
- ۴ - آلودگی هوا ناشی از وسایل نقلیه موتوری

۲۸ در این تصویر عمده ترین خطری که راننده اتومبیل پشت سر به آن مواجه خواهد بود کدام است؟

- ۱ - ممکن است دوچرخه سوار ترمز کند و بایستد.
- ۲ - ممکن است دوچرخه سوار ناگهان به داخل خیابان منحرف شود
- ۳ - ممکن است دوچرخه سوار ناگهان به سمت راست رفته و پیاده شود.
- ۴ - ممکن است دوچرخه سوار بر سرعت خود بیفزاید.

۲۹ راننده ای که مرتکب تصادف منجر به جرح یا فوت می گردد چه وظیفه ای دارد؟

- ۱ - بلافاصله وسیله نقلیه را از محل تصادف خارج کند.
- ۲ - بلافاصله وسیله نقلیه را در محل تصادف متوقف سازد.
- ۳ - با نصب علائم ایمنی هشدار دهنده، سایر رانندگان را از وقوع حادثه آگاه سازد.
- ۴ - موارد ۲ و ۳ صحیح می باشد



۷ راننده ای که دست چپ را به طور افقی نگهداشته به چه معناست؟



- ۱ - گردش یا تغییر مسیر به راست
- ۲ - گردش یا تغییر مسیر به چپ
- ۳ - توقف
- ۴ - افزایش سرعت

۹ کدامیک از موارد زیر در حین رانندگی در شب اشتباه است؟

- ۱ - روشن نمودن چراغ های کوچک و بزرگ بطور همزمان
- ۲ - استفاده از بوق کوتاه هنگام سبقت
- ۳ - کاهش سرعت در صورت نزدیک شدن خودرویی از روبرو که از نور بالا استفاده می کند.
- ۴ - استفاده از چراغ مه شکن در هنگام ریزش باران

۱۱ حرکت با دنده خلاص در سرازیری ها چه حکمی دارد؟

- ۱ - مجاز است
- ۲ - در صورت نبودن مانع اشکالی ندارد
- ۳ - ممنوع است
- ۴ - در صورت عدم ایجاد خطر اشکالی ندارد

۱۳ توقف وسیله نقلیه در کدام مورد زیر ممنوع است؟

- ۱ - ۱۰۰ متری اطراف چراغ راهنمایی
- ۲ - ۲۵ متری مراکز فوریت های پزشکی
- ۳ - ۲۰ متری شیرهای آب آتش نشانی
- ۴ - معابر در ارتفاع

۸ این شکل نشان دهنده چیست؟



- ۱ - حرکت کردن از روی خطوط هاشور ممنوع است
- ۲ - خطوط هاشور مخصوص عبور اضطراری وسایل نقلیه سبکی می باشد
- ۳ - خطوط هاشور معمولا در کناره شبکه معابر آزاد راهها، بزرگراهها و تونلها کشیده می شوند.
- ۴ - تمام موارد

۱۰ در کدامیک از موارد زیر سبقت ممنوع نمی باشد؟

- ۱ - برای اتوبوس ها و کامیونها در معابر برون شهری.
- ۲ - از ۵۰ متر مانده به پیچها تا ۵۰ متر پس از آن.
- ۳ - سبقت از وسیله نقلیه ای که در حال سبقت گرفتن است مگر در راههای دارای سه خط عبور.
- ۴ - در سربخ های تند و سربالایی که میدان دید راننده کم است.

۱۲ رانندگانی که قصد گردش به راست یا به چپ را دارند مکلفند از چه فاصله ای به وسیله چراغ راهنما علامت بدهند؟

- ۱ - ۲۵۰ متری
- ۲ - ۱۵۰ متری
- ۳ - ۲۰۰ متری
- ۴ - ۱۰۰ متری

۱۴ از چند متری بعد از بیخ ها سبقت گرفتن آزاد است؟

- ۱ - ۳۰ متری
- ۲ - ۵۰ متری
- ۳ - ۴۰ متری
- ۴ - ۲۰ متری

۱۵ آزاد راه راهی است دارای حداقل .....

- ۱ - دو خط اتومبیل رو برای طرف رفت
- ۲ - سه خط اتومبیل رو برای هر طرف
- ۳ - دو خط اتومبیل رو برای هر طرف
- ۴ - سه خط اتومبیل رو برای طرف برگشت

۱۷ در معابر محلی و میادین شهرا، حداکثر سرعت چند کیلومتر در ساعت است؟

- ۱ - ۵۵
- ۲ - ۶۵
- ۳ - ۳۰
- ۴ - ۴۵

۱۹ کدام یک از اجزای موتور نمی باشد؟



- ۱ - سیلندر
- ۲ - سرسیلندر
- ۳ - میل لنگ
- ۴ - فلایویل

۲۱ مفهوم برجسب مقابل کدام است؟



- ۱ - راننده ناشنوا
- ۲ - راننده بیمار
- ۳ - راننده معلول
- ۴ - معلولین و جانبازان

۱۶ در این شکل حق تقدم عبور با کیست؟



- ۱ - آبی، زرد
- ۲ - هم زمان با هم می توانند حرکت کنند.
- ۳ - زرد، آبی
- ۴ - بستگی به سرعت خودروها دارد.

۱۸ ترمز دستی معمولا ..... عمل می کند.

- ۱ - فقط بر چرخهای جلو
- ۲ - فقط بر چرخهای عقب
- ۳ - فقط بر چرخهای سمت چپ
- ۴ - فقط بر چرخهای سمت راست

۲۰ وظیفه قطع و وصل کردن مدار آب از موتور به رادیاتور بر عهده کدام قطعه می باشد؟

- ۱ - پمپ روغن
- ۲ - کلاچ
- ۳ - ترموستات
- ۴ - فن

۲۲ کدام یک جزو آلاینده های هوا نمی باشد؟

- ۱ - مونواکسید کربن
- ۲ - اکسیدهای نیتروژن
- ۳ - اکسیژن
- ۴ - ذرات معلق

# آزمون شماره ۱۰





## بن نامه راهنمایی و رانندگی

کواهننامه (۱۰۰ سوم)

زمان ۲۰ دقیقه

از گذاشتن هرگونه علامت بر روی برکه آزمون جدا خودداری فرمایید

۱ کدام تابلو بیانگر سبقت ممنوع می باشد؟



۲ عنوان این تابلو چیست؟



- ۱ - تقاطع راه آهن با راهبند
- ۲ - خطر سقوط در آب
- ۳ - راه لغزنده
- ۴ - پل متحرک

۳ عنوان این تابلو چیست؟



- ۱ - بن بست
- ۲ - پایان آزادراه
- ۳ - تقاطع
- ۴ - تونل

۴ این تابلویانگر چیست؟



- ۱ - عبور با ارتفاع بیش از ۳/۵ متر ممنوع
- ۲ - عبور با عرض بیش از ۳/۵ متر ممنوع
- ۳ - عبور وسائط نقلیه با وزن بیش از ۳/۵ تن ممنوع
- ۴ - عبور با بار بیش از ۳/۵ تن بر هر محور ممنوع

۵ این تابلویانگر چیست؟



- ۱ - پایان محدوده توقف ممنوع
- ۲ - محدوده توقف ممنوع در ساعات معین
- ۳ - پایان محدوده پارک آزاد
- ۴ - منطقه محدودیت سرعت

۶ این برجسب بیانگر چیست؟




- ۱ - تلفن عمومی
- ۲ - راننده معلول
- ۳ - بوق زدن ممنوع
- ۴ - راننده ناشنوا

۲۳ در این تقاطع حق تقدم عبور به ترتیب با کدام یک می باشد؟



- ۱ - فرمز، سبز، آبی
- ۲ - سبز، آبی، فرمز
- ۳ - آبی، فرمز، سبز
- ۴ - فرمز، آبی، سبز

۲۴ در کدام یک خطوط اضطرار نمایش داده شده است؟



۲۵ در این شکل حق تقدم عبور با کدام خودرو است؟



- ۱ - خودروی ۱
- ۲ - بستگی به سرعت خودرو دارد
- ۳ - خودروی ۲
- ۴ - هر دو با هم می توانند عبور نمایند

۲۶ سبقت گرفتن از وسیله نقلیه ای که خود در حال سبقت است ..... مجاز است

- ۱ - چنانچه احتمال تصادف نباشد مجاز است
- ۲ - تحت هر شرایطی ممنوع است
- ۳ - ممنوع است مگر در راهی که به دلیل وجود سه خط عبور یا بیشتر این عمل مجاز باشد

۲۸ در برخورد با یک مصدوم بیهوش مهم ترین اقدام چیست؟

- ۱ - گرفتن فشار خون بیهوش
- ۲ - باز کردن راه تنفسی و حفظ گردش خون
- ۳ - بلند کردن دست های مصدوم
- ۴ - نشان دادن مصدوم روی مندیلی

۲۷ انجام کدام یک از اعمال زیر در خصوص زخمهای صحنه تصادف نادرست است؟

- ۱ - دلجویی از آنها
- ۲ - گرم نگه داشتن آنها
- ۳ - ایجاد شرایطی که زخمها تنها نمانند
- ۴ - دادن خوراکی به افراد زخمی

۳۰ تابلوهای زیر که در راهها نصب می شوند به چه معناست؟



- ۱ - فاصله را تا خروجی بعدی نشان می دهند.
- ۲ - فاصله را تا تقاطع جاده و راه آهن نشان می دهند.
- ۳ - فاصله خروجی تا آزادراه را نشان می دهند.
- ۴ - فاصله را تا محل بازرسی پلیس نشان می دهند.

۲۹ مفهوم این تابلو چیست؟



- ۱ - عبور دو طرفه
- ۲ - حق تقدم عبور با وسیله نقلیه مقابل است
- ۳ - عبور از هر دو طرف ممنوع
- ۴ - توقف در روزهای زوج ممنوع



۷ راننده ای که دست چپ را به طرف پایین نگهداشته به چه معناست؟



- ۱- گردش یا تغییر مسیر به راست
- ۲- گردش یا تغییر مسیر به چپ
- ۳- توقف
- ۴- افزایش سرعت

۸ مفهوم رنگ سبز در علائم عبور و مرور چیست؟



- ۱- حرکات مجاز، راهنمای مسیر در بزرگراه ها و اماکن مذهبی
- ۲- منع کننده یا ایست
- ۳- راهنما برای مناطق اداری و آموزشی و خدماتی
- ۴- راهنما برای مناطق تفریحی و فرهنگی و گردشگری

۹ کدامیک از موارد زیر در حین رانندگی در شب اشتباه است؟

- ۱- روشن نمودن چراغ های کوچک و بزرگ بطور همزمان
- ۲- استفاده از بوق کوتاه هنگام سبقت
- ۳- کاهش سرعت در صورت نزدیک شدن خودرویی از روبرو که از نور بالا استفاده می کند.
- ۴- استفاده از چراغ مه شکن در هنگام ریزش

۱۰ در سبقت گرفتن کدامیک از موارد زیر را باید رعایت نمود؟

- ۱- یافتن فضایی برای جلو افتادن از خودروی دیگر
- ۲- داشتن سرعتی معادل سرعت خودرویی که می خواهیم از آن سبقت بگیریم.
- ۳- عدم ممنوعیت سبقت در آن مکان از راه اطمینان از خالی بودن وسیله نقلیه در لاین دیگر
- ۴- عدم ممنوعیت سبقت در آن مکان از راه مگر سرعت خودرو آن قدر باشد که در زمان کوتاه عمل سبقت گرفتن تمام شود.

۱۱ بازدید مخزن آب رادیاتور چه زمانی باید انجام شود؟

- ۱- صرفا در فصل تابستان که هوا گرم است.
- ۲- زمانی که خودرو روشن است.
- ۳- زمانی که خودرو در حال حرکت است.
- ۴- زمانی که موتور خاموش و سرد است

۱۲ چراغ هایی که حضور وسیله نقلیه و عرض آن را از سمت جلو نشان می دهد کدام است؟

- ۱- چراغ جانبی جلو
- ۲- چراغ جانبی عقب
- ۳- چراغ های کوچک عقب
- ۴- چراغ توقف

۱۳ روی یدک و هرنوع وسیله نقلیه ای که وسیله نقلیه دیگر آن را می کشد باید رانندگان آن را ببینند.

- ۱- پرچم سفید به ابعاد حداقل ۱۰۰ سانتی متر
- ۲- پرچم قرمز به ابعاد ۵۰ سانتی متر
- ۳- پرچم سفید به ابعاد حداقل ۵۰ سانتی متر
- ۴- چراغ الکتریکی با نور قرمز

۱۴ از چند شتری ورودی پل ها سبقت گرفتن ممنوع است؟

- ۱- ۲۵۰ متری
- ۲- ۱۵۰ متری
- ۳- ۲۰۰ متری
- ۴- ۱۰۰ متری

۱۵ دور زدن از روی خط پر و یا یک خط ممتد

- ۱- با رعایت احتیاط بدون اشکال است
- ۲- ممنوع است
- ۳- مجاز است
- ۴- در صورت خلوت بودن مسیر مجاز است

۱۶ به همراه چراغ چشمک زن قرمز معمولاً کدام تابلو راهنمایی و رانندگی نصب می گردد؟

- ۱- فقط عبور مستقیم مجاز
- ۲- گردش به چپ ممنوع
- ۳- فقط عبور به راست مجاز
- ۴- ایست و یا رعایت حق تقدم

۱۷ در راه های بیرون شهر، حداکثر سرعت مجاز در آزادراه ها برای کامیونت چند کیلومتر در ساعت است؟

- ۱- ۱۲۰
- ۲- ۱۲۵
- ۳- ۱۳۰
- ۴- ۱۱۰

۱۸ ترمز سرویس (ترمز پایسی) مطابق با الزامات استانداردهای خودرویی باید بر عمل کند.

- ۱- تمامی چرخها
- ۲- فقط بر چرخ های جلو
- ۳- فقط بر چرخ های عقب
- ۴- فقط بر چرخ های محرک

۱۹ ..... علاوه بر اینکه کلیدی ترین ابزار در کنترل خودرو میباشد، می تواند به عنوان بازخوردی مناسب، صحت یا عدم سلامت بخشهای مهمی از خودرو همچون سیستم جلوبندی و وضعیت فرمان پذیری را آشکار نماید.

- ۱- پدال ترمز
- ۲- پدال گاز
- ۳- غربیلک فرمان
- ۴- آینه بغل

۲۰ مهمترین مزیت ترمز ضد قفل چیست؟

- ۱- حفظ فرمان پذیری خودرو و جلوگیری از لغزش
- ۲- افزایش قدرت و سرعت خودرو
- ۳- کاهش مصرف سوخت
- ۴- استهلاک کمتر تایرها

۲۱ انجام کدامیک از موارد زیر هنگام دادن تنفس مصنوعی صحیح تر می باشد؟

- ۱- خارج کردن اجسام خارجی از دهان مصدوم، دادن تنفس مصنوعی، بررسی تنفس حداقل به مدت ۲۰ ثانیه
- ۲- خارج کردن اجسام خارجی از دهان مصدوم، بازکردن دهان و با بردن چانه مصدوم، بررسی نشان تنفس پس از بازکردن راه هوایی
- ۳- خارج کردن اجسام خارجی از دهان مصدوم، بررسی تنفس حداقل به مدت ۲۰ ثانیه، دادن تنفس به مدت ۵ ثانیه
- ۴- بازکردن دهان مصدوم و دادن تنفس مصنوعی، بررسی تنفس به مدت ۲۰ ثانیه، ادامه دادن تنفس مصنوعی به مدت ۵ دقیقه

۲۲ بزرگترین منبع آلودگی هوا در کلان شهرها کدام است؟

- ۱- کارگاه ها
- ۲- خودرو
- ۳- وسایل گازسوز خانگی
- ۴- پالایشگاه ها



# آزمون شماره ۱۱




# مه راهنمایی و رانندگی

مه ، اتندگ ، پایه سوم

زمان ۲۰ دقیقه

از گذاشتن هرگونه علامت بر روی برگه آزمون جدا خودداری فرمایید



۲ عنوان این تابلو چیست؟



۱ - جاده باریک می شود

۲ - راه از چپ باریک می شود

۳ - راه باریک

۴ - ورودی خیابان

۱ کدام تابلو بیانگر عبور خودروی کشاورزی ممنوع می باشد؟



۲



۱



۴



۳

۴ این تابلو بیانگر چیست؟



۱ - عبور وسائط نقلیه با وزن بیش از ۵ تن ممنوع

۲ - عبور کامیون با طول بیش از ۵ متر ممنوع

۳ - عبور با عرض بیش از ۵ متر ممنوع

۴ - عبور با بار بیش از ۵ تن بر هر محور ممنوع

۳ عنوان این تابلو چیست؟



۱ - تقاطع با راه آهن

۲ - تقاطع فرعی و اصلی

۳ - ورود به راه اصلی از راست

۴ - تقاطع

۶ این برجسب بیانگر چیست؟



۱ - پست امدادی

۲ - راننده ناشنوا

۳ - بیمارستان

۴ - راننده معلول

۵ این تابلو بیانگر چیست؟



۱ - پایان شهر

۲ - تونل

۳ - پایان تونل

۴ - ورود به شهر

۲۴ در کدام یک خطوط اضطرار نمایش داده شده است؟



۲



۱



۴



۳

۲۳ این شکل بیانگر چیست؟



۱-سواری در حال سبقت گرفتن از موتورسوار است.



۲-موتورسوار در نقطه کور سواری قرار دارد.

۳-سبقت در محل غیر مجاز

۴-عدم رعایت فاصله طولی مناسب

۲۶ چرا قبل از سبقت گرفتن از یک کامیون طویل، باید فاصله را با آن کاملاً حفظ کنید؟

۱ - زیرا برای سبقت گرفتن از کامیون طویل در پیچ ها باید شتاب کافی داشته باشید.

۲- سبقت گرفتن از خودروهای طویل ممنوع است

۳- برای اینکه در نقطه کور قرار بگیرید.

۴- برای اینکه از موقعیت جلوی کامیون اطلاع کافی داشته و در نقطه کور قرار نگیرید.



۲۵ در این تقاطع، حق تقدم عبور به ترتیب با کدام یک می باشد؟



۱- آبی، نارنجی، سبز، زرد

۱- سبز، زرد، آبی، نارنجی

۳- زرد، سبز، نارنجی، آبی

۴- سبز، زرد، نارنجی، آبی

۲۸ مفهوم این تابلو چیست؟



۱- ورود به راه اصلی از راست

۲- تقاطع

۳- ورود به راه اصلی از چپ

۴- تقاطع فرعی و اصلی

۲۷ کاربرد روش ۲ ثانیه زمان در کجاست؟

۱- بررسی آگار ناشی از تصادف

۲- تخمین مسافت خودرو در حال حرکت با وسیله نقلیه جلویی

۳- کنترل صحت کار موتور خودرو

۴- محاسبه زمان چراغ زرد راهنمایی در سر چهارراه ها

۳۰ کدام مورد زیر از عوامل افزایش ایمنی در شبکه معابر و راه های کشور می باشد؟

۱- تغییر ناگهانی مسیر حرکت به چپ در راه های فاقد خط کشی

۲- رعایت حق تقدم عبور هنگام رانندگی

۳- تغییر ناگهانی مسیر حرکت به راست در راه های فاقد خط کشی

۴- حرکت با سرعتی بیش از سرعت تعیین شده در شبکه راه ها

۲۹ مفهوم چراغ سبز راهنمایی چیست؟

۱- ایست کامل و سپس عبور

۲- عبور با گردش آزاد است مگر آنکه گردش نمودن توسط علائم دیگر ممنوع شده باشد

۳- عبور ممنوع است مگر آن که وسیله نقلیه با سرعت بالا در حال تردد باشد

۴- برای اتوبوس ها عبور آزاد و سایرین باید توقف نمایند





۷ مفهوم خطوط مقطع یا بریده بریده در این شکل چیست؟



۱- برای مشخص نمودن مسیر عبور دوچرخه

۲- عمل سبقت، گردش، تغییر خط حرکت و دور زدن از روی این خطوط (با رعایت احتیاط) بدون اشکال می باشد.

۳- رانندگان وسایل نقلیه نباید به هیچ وجه از روی این خطوط عبور نمایند.

۴- محل پارک خودرو

۸ مفهوم رنگ قرمز در علائم عبور و مرور چیست؟



۱- حرکات مجاز، راهنمای مسیر در بزرگراه ها و اماکن مذهبی

۲- منع کننده یا ایست

۳- راهنما برای مناطق اداری و آموزشی و خدماتی

۴- راهنما برای مناطق تفریحی و فرهنگی و گردشگری

۱۰ سبقت چیست؟

۱- جلو افتادن و یا پیشی گرفتن از خودرو دیگری که در همان مسیر حرکت می کند.

۲- در جلوی خودروی دیگر حرکت نمودن

۳- حرکت در جهت مسیر خودروهای دیگر و جلوتر از همه آنها

۴- حرکت در لاین مخالف و جلو افتادن از خودروی دیگر

۹ اگر خودرویی با نور بالا از روبرو به شماره نزدیک شود چه باید بکنید؟

۱- باید با تبدیل نور پایین به نور بالا و بوق ممتد او را متوجه نمود که از نور پایین استفاده کند.

۲- باید سرعت را افزایش داده و سریع از کنار آن عبور کرد.

۳- سرعت را کاهش داده و به سمت راست جاده نگاه کرده و با کنار چشم حرکت خودرو مقابل را تحت نظر داشت.

۴- باید سرعت را کاهش داده و فقط به خودروی مقابل نگاه کرد.

۱۱ در کدام شرایط زیر، برای توقف به مسافت بیشتری نیاز است؟

۱- در شرایط آفتابی و روز روشن

۲- وقتی خودرو سنگین تر است یا شرایط بارانی و برفی است

۳- وقتی خودرو سبک تر است

۴- وقتی بدون بار و مسافر در حال حرکت هستیم

۱۲ در این شکل حق تقدم عبور به ترتیب با کدام خودروها است؟



۱- ابتدا ۱، سپس ۲ و بعد ۳

۲- ابتدا ۳، سپس ۲ و بعد ۱

۳- ابتدا ۲، سپس ۱ و بعد ۳

۴- ابتدا ۳، سپس ۱ و بعد ۲

۱۳ هرگاه وسیله نقلیه موتوری در راه از کار بیفتد و به دلیل نور کافس نیاز به چراغ نباشد، راننده باید مثلث های سبزرنگ را در چه فاصله ای از طرف عقب و جلوی وسیله نقلیه به نحوی که قابل دیدن باشد قرار دهد؟

۱- ۲۰۰ متری

۲- ۱۰۰ متری



۳- ۱۵۰ متری

۴- ۷۰ متری



۱۴ سبقت گرفتن در راه ها در کدام مورد ممنوع می باشد؟

۱- اتوبوس و کامیون ها در معابر شهری

۲- از ۱۵۰ متری ورودی تونل ها

۳- از ۱۰۰ متری مانده به پیچ ها

۴- از ۱۰۰ متری پس از پیچ ها

۱۵ در راه های یک طرفه برای گردش به چپ، رانندگان موظفند وسیله نقلیه را .....

۱- به منتهی الیه سمت راست هدایت و گردش نمایند.

۲- منتهی الیه چپ هدایت و گردش نمایند.

۳- در شانه سمت راست متوقف و سپس با زدن راهنما گردش نمایند.

۴- در سمت راست متوقف و با رعایت حق تقدم گردش نمایند.



۱۷ در ازادراه های بیرون شهری و مناطق غیرمسکونی، حداقل سرعت چند کیلومتر در ساعت است؟

۱- ۵۰

۲- ۷۰

۳- ۶۰

۴- ۱۰۰



۱۹ لرنش غریبک فرمان می تواند ناشی از کدام نقص باشد؟

۱- خرابی جعبه دنده

۲- بالانس نبودن چرخ ها

۳- تمام شدن صفحه کلاچ

۴- پایین بودن سطح سوخت



۲۱ در خصوص آتش سوزی خودرو انجام کدامیک از موارد زیر صحیح تر می باشد؟

۱- در هنگام آتش سوزی خودرو باید ابتدا از شعله دور شدن موتور خودرو جلوگیری بعمل آورد.

۲- در هنگام آتش سوزی خودرو باید ابتدا قسمتهای داخلی خودرو را خاموش نمود.

۳- در صورت وجود کیسول آتش نشانی با استفاده از آن آتش را خاموش نموده و در صورت عدم وجود کیسول آتش نشانی با پنو یا یک جسم غیر قابل اشتعال شعله را خفه کنید.

۴- احتمال انفجار خودرو در صورتی که شعله به داخل خودرو انتقال یابد زیاد است.



۱۶ هنگام رانندگی و مشاهده چراغ چشمک زن قرمز چه اقدامی باید انجام داد؟

۱- عبور از تقاطع با سرعت زیاد و احتیاط لازم

۲- عبور با احتیاط

۳- ایست و عبو

۴- عبور از تقاطع با سرعت کم و احتیاط لازم



۱۸ هدف از .....، تسلط کامل پاهای و دستها بر تجهیزات کنترلی همچون پدالها، اهرمها و غریبک فرمان می باشد.

۱- معاینه فنی

۲- تنظیم آینه ها

۳- سلامت فنی

۴- تنظیم صندوق



۲۰ کدامیک جزو وظایف سیستم تعلیق نمی باشد؟

۱- کنترل قدرت و شتاب خودرو

۲- تامین راحتی راننده

۳- حفظ تعادل و پایداری خودرو هنگام عبور از پستی یا بلندی ها

۴- ممانعت از واژگونی خودرو هنگام عبور از پیچها



۲۲ این صفات جزو کدام نوع از رانندگان می باشد: ماتور و تغییر مسیر به طور مکرر، بوق زدنهای مبهوده و مکرر و عبور از خط مقابل برای راهی از ترافیک.

۱- رانندگان مسن

۲- رانندگان پرخاشک

۳- رانندگان جوان

۴- رانندگان بی تجربه



# آزمون شماره ۱۲





# آزمون آیین نامه راهنمایی و رانندگی

نام و نام خانوادگی: \_\_\_\_\_ (م)

۱۲

زمان ۲۰ دقیقه

از گذاشتن هرگونه علامت بر روی برگه آزمون جدا خودداری فرمایید



۲ عنوان این تابلو چیست؟

- ۱ - چاله
- ۲ - برآمدگی
- ۳ - دست انداز
- ۴ - شانه خطرناک

۱ کدام تابلو بیانگر آن است که عبور از هر دو سمت مجاز می باشد؟

- (۱)
- (۲)
- (۳)
- (۴)

۲ این تابلو بیانگر چیست؟



۴ این تابلو بیانگر چیست؟



- ۱ - سبقت برای کامیون ممنوع
- ۲ - سبقت ممنوع
- ۳ - حق تقدم عبور با شما
- ۴ - جاده دو طرفه

- ۱ - ایستادن ممنوع
- ۲ - میدان
- ۳ - رعایت حق تقدم
- ۴ - به تابلو ایست نزدیک می شوید

۵ این تابلو بیانگر چیست؟



۶ این تابلو بیانگر چیست؟

۲۰۰ متر

- ۱ - تا ۲۰۰ متر پارک کردن مجاز است
- ۲ - طول ممنوعیت با محدودیت پارکینگ
- ۳ - فاصله از محل نصب تابلو تا شروع قسمت خطر
- ۴ - رعایت فاصله کمتر از ۲۰۰ متر ممنوع

- ۱ - استراحتگاه (کاروان)
- ۲ - تفرجگاه
- ۳ - استراحتگاه (چادر)
- ۴ - هتل

۲۴ کدام یک به معنای پارکینگ مخصوص افراد معلول است؟

- (۱)
- (۲)
- (۳)
- (۴)

۲۳ در راه هایی که مسیر حرکت وسایل نقلیه به دلیل عملیات حفاری بسته باشد، حق تقدم عبور با وسیله نقلیه ای است که.....

- ۱ - مسیر عبور آن ها بسته باشد.
- ۲ - مسیر عبور آن ها باز و دارای موانع ثابتی باشد.
- ۳ - مسیر عبور آن ها باز یا سهم عبور بیشتری داشته باشند.
- ۴ - مسیر عبور آن ها باز یا سهم عبور کمتری داشته باشند.

۲۶ کدام گزینه درباره عبور و توقف در مسیرهای ویژه اتوبوس شرکت واحد صحیح است؟

- ۱ - به جز اتومبیل های مجاز، برای مابقی وسایل نقلیه ممنوع است
- ۲ - حتی در صورت ترافیک، نمی توان از مسیر ویژه اتوبوس عبور کرد.
- ۳ - گزینه های ۱ و ۲ صحیح است.
- ۴ - در صورت ترافیک سنگین می توان از مسیر ویژه اتوبوس عبور کرد.

۲۵ فردی که نوشابه الکلی یا مواد مخدر و داروهای خواب آور مصرف کرده، در چه شرایطی می تواند رانندگی کند؟

- ۱ - تا زمانی که آثار آن باقی است، رانندگی ممنوع می باشد.
- ۲ - در صورت شرایط اضطراری می تواند رانندگی کند.
- ۳ - تا یک سال نباید رانندگی کند.
- ۴ - موارد ۲ و ۳

۲۸ ایستادن یا توقف وسایل نقلیه در کدام یک محل های زیر ممنوع است؟

- ۱ - پیاده رو و گذرگاه پیاده
- ۲ - در فاصله ۱۵ متری میدان یا تقاطع یا سه راه ها یا تقاطع راه آهن
- ۳ - از ابتدا تا انتهای پیچها
- ۴ - تمام موارد

۲۷ در راه های شیب دار کوهستانی که دو وسیله نقلیه در کنار یکدیگر نمی توانند عبور نمایند، حق تقدم عبور با وسیله نقلیه ای است که.....

- ۱ - در جهت سربالایی در حرکت است.
- ۲ - در جهت سرازیری در حرکت است.
- ۳ - در جهت سرازیری با سرعت کم در حرکت است.
- ۴ - سهم بیشتری از عبور داشته و در جهت سرازیری در حرکت است.

۳۰ مفهوم این تابلو چیست؟



- ۱ - پل زیرگذر
- ۲ - تونل
- ۳ - اثر باستانی
- ۴ - پایان تونل

۲۹ در صورت مشاهده تابلو مقابل متظر چه چیزی باید بود؟



- ۱ - گردش به چپ ممنوع
- ۲ - پیچهای پی در پی (اولین پیچ به چپ)
- ۳ - پیچ به چپ
- ۴ - پیچ به راست



۷ خطوط هاشور در راهها نشان دهنده چیست؟



۱- محل توقف

۲- محل استراحت

۳- وجود موانع

۴- منطقه خطر

۸ خودرویی که با دایره مشخص شده است به کدام یک از خودروها باید حق تقدم عبور بدهد؟



۱- خودروهای ۱ و ۲

۲- خودروهای ۱ و ۳

۳- خودروهای ۲ و ۳

۴- به همه خودروها

۹ در کدام یک از سطوح زیر مسافت توقف افزایش می یابد؟

۱- آسفالت زیر

۲- آسفالت با شرایط مطلوب ولی خشک

۳- در جاده های سنگلاخ

۴- آسفالت با شرایط نامطلوب و آغشته به قیر

۱۰ کدام یک از موارد زیر در خصوص حرکت با سرعت زیاد صحیح نمی باشد؟

۱- مصادمات و تلفات در تصادفات با سرعت زیاد بیشتر است.

۲- در سرعتهای بالا زمان واکنش نسبت به خطرات بسیار افزایش می یابد.

۳- احتمال کنشته شدن در تصادفات با سرعتهای بالا بسیار زیاد است.

۴- کنترل وسیله نقلیه در سرعتهای بالا بسیار سخت است.

۱۱ حداقل عمق شیار تایرها چند میلی متر باید باشد؟

۱- ۲۰

۲- ۱۵

۳- ۱/۵

۴- ۰/۵

۱۲ حداکثر میزان سرعت مجاز انواع سواری در بزرگراه های برون شهری چند کیلومتر در ساعت است؟

۱- ۱۲۰

۲- ۱۲۵

۳- ۱۱۰

۴- ۱۰۰

۱۴ از چند متری بیج ها سبقت گرفتن ممنوع است؟

۱- ۳۰ متری

۲- ۵۰ متری

۳- ۴۰ متری

۴- سبقت گرفتن در بیج ها محدودیت ندارد

۱۵ رانندگان هنگام روبرو شدن با وسایل نقلیه ای که در جهت مخالف حرکت می کنند حداقل از چند متری از چراغ عبور (نور پایین) استفاده می نمایند؟

۱- ۵۰ متری

۲- ۱۰۰ متری

۳- ۱۵۰ متری

۴- ۲۵۰ متری

۱۶ در کنترل و تنظیم عبور و مرور کدام مورد بر سایرین مقدم است؟

۱- خط کشی و ترسیم ها

۲- چراغ راهنمایی

۳- فرمان پلیس

۴- تابلوهای راهنمایی

۱۷ در بزرگراه های درون شهری حداکثر سرعت چند کیلومتر در ساعت است؟

۱- ۱۱۰

۲- ۱۲۰

۳- ۱۰۰

۴- ۱۲۵

۱۸ .....، دستگاهی است که انرژی حرارتی و شیمیایی موجود در سوخت را به انرژی جنبشی یا مکانیکی تبدیل می کند.

۱- دیفرانسیل

۲- گیربکس

۳- موتور

۴- اگزوز

۱۹ در این تقاطع، حق تقدم عبور به ترتیب با کدام یک می باشد؟



۱- دوچرخه، سواری، کامیون

۲- کامیون، دوچرخه، سواری

۳- سواری، دوچرخه، کامیون

۴- کامیون، سواری، دوچرخه

۲۰ میزان کارایی روغن های معمولی موتور چند کیلومتر می باشد؟

۱- در حدود ۲ هزار کیلومتر

۲- در حدود ۸۰ تا ۱۰۰ هزار کیلومتر

۳- در حدود ۸ تا ۱۰ هزار کیلومتر

۴- هزار کیلومتر

۲۱ هنگام ارائه کمکهای اولیه و دادن تنفس مصنوعی، پس از چه مدت باید گردش خون مصنوعی را بررسی نمود؟

۱- پس از هر ۱۰ بار تنفس مصنوعی (تقریباً یک دقیقه)

۲- پس از هر ۳۰ بار تنفس مصنوعی (تقریباً دو دقیقه)

۳- پس از هر ۵۰ بار تنفس مصنوعی (تقریباً پنج دقیقه)

۴- در هنگام دادن تنفس مصنوعی نیازی به بررسی گردش خون نیست.

۲۲ کدام یک از مهمترین عوامل و خصوصیات است که موجب عملکرد ضعیف یک راننده می شود؟

۱- عدم شناسایی و تشخیص نادرست حوادث غیرمنتظره و حادثه ساز

۲- نداشتن تمرکز در حین رانندگی

۳- نداشتن توجه کامل به ایمنی سایر کاربران ترافیک

۴- تمام موارد



# آزمون شماره ۱۳

آزمون آشنایی با راهنمایی و رانندگی  
 نامه راهنمایی و رانندگی  
 امه رانندگی پایه سوم  
 زمان ۲۰ دقیقه  
 از گذاشتن هرگونه علامت بر روی برگه آزمون جدا خودداری فرمایید.

<p>۲ عنوان این تابلو چیست؟</p>  <p>۱ - دست انداز                  ۲ - برآمدگی                  ۳ - ریزش سنگ                  ۴ - سربالایی خطرناک</p>	<p>۱ کدام تابلو بیانگر این است که فقط عبور راست مجاز می باشد؟</p> <p>(۱)  (۲)                   (۳)  (۴) </p>
<p>۴ این تابلو بیانگر چیست؟</p> <p>۱ - گردش به راست ممنوع                  ۲ - گردش به چپ ممنوع                  ۳ - پیچ به راست                  ۴ - پیچ به راست بدون محدودیت</p>	<p>۳ این تابلو بیانگر چیست؟</p> <p>۱ - رعایت حق تقدم                  ۲ - به تابلو ایست نزدیک می شوید                  ۳ - به تابلو رعایت حق تقدم عبور نزدیک می شوید                  ۴ - به تابلو خطر نزدیک می شوید</p>
<p>۶ این تابلو بیانگر چیست؟</p>  <p>۱ - سرعت توصیه شده                  ۲ - طول ممنوعیت با محدودیت پارکینگ                  ۳ - طول محدوده خطر                  ۴ - حاشیه نمای دو طرفه</p>	<p>۵ این تابلو بیانگر چیست؟</p>  <p>۱ - جایگاه سوخت                  ۲ - پست امدادی                  ۳ - استراحتگاه                  ۴ - تعمیرگاه</p>

<p>۲۴ کدام یک به معنای راننده معلول است؟</p> <p>(۱)  (۲)                   (۳)  (۴) </p>	<p>۲۳ انجام دادن کدام گزینه درست است؟</p> <p>۱ - استفاده از نور بالا در فواصل کمتر از ۱۵۰ متر با خودروی جلوئی                  ۲ - استفاده از چراغهای با نور خیره کننده                  ۳ - عدم استفاده از نوربالا در شب                  ۴ - استفاده از نور پایین در فواصل کمتر از ۱۵۰ متر با خودروی جلوئی</p>
<p>۲۶ کدام گزینه درباره عبور و توقف در مسیرهای ویژه اتوبوس شرکت واحد صحیح است؟</p> <p>۱ - به جز اتومبیلهای مجاز، برای مابقی وسایل نقلیه ممنوع است                  ۲ - در ساعات شب می توان از مسیر ویژه اتوبوس عبور نمود.                  ۳ - در صورت نبودن پلیس می توان از خطوط ویژه استفاده نمود.                  ۴ - در صورت ترافیک سنگین می توان از مسیر ویژه اتوبوس عبور کرد.</p>	<p>۲۵ کدام گزینه نادرست است؟</p> <p>۱ - رانندگی برای کسی که نوشابه الکلی یا مواد مخدر و داروهای خواب آور مصرف کرده تارفع کامل آثار آن ممنوع است.                  ۲ - راننده موظف است هنگام رانندگی، گواهی نامه رانندگی خویش را همراه داشته باشد.                  ۳ - استفاده از بوق برای مقاصدی مانند صدا زدن افراد و جلب توجه مسافر ممنوع است.                  ۴ - رانندگان می توانند ضمن رانندگی، دخانیات استعمال نمایند.</p>
<p>۲۸ انجام کدام یک از اعمال زیر در خصوص زخمیهایی صحنه تصادف نادرست است؟</p> <p>۱ - دلجویی از آنها                  ۲ - گرم نگه داشتن آنها                  ۳ - ایجاد شرایطی که زخمیها تنها نمانند                  ۴ - دادن خوراکی به افراد زخمی</p>	<p>۲۷ در این تقاطع، حق تقدم عبور به ترتیب با کدام خودروها می باشد؟</p> <p>۱ - زرد، آبی، نارنجی                  ۲ - آبی، زرد، نارنجی                  ۳ - نارنجی، آبی، زرد                  ۴ - نارنجی، زرد، آبی</p>
<p>۳۰ در اعداد رسانی، این جمله به کدام مورد مربوط می شود: « خبلی سریع و در کمال خونسردی حادثه را بررسی نمایید »</p> <p>۱ - امن کردن محل حادثه                  ۲ - ارائه کمک های اولیه                  ۳ - ارزیابی موقعیت                  ۴ - درخواست کمک</p>	<p>۲۹ در این تصویر عمده ترین خطری که راننده اتومبیل پشت سر با آن مواجه خواهد بود کدام است؟</p> <p>۱ - ممکن است دوچرخه سوار ترمز کند و بایستد.                  ۲ - ممکن است دوچرخه سوار ناگهان به داخل خیابان منحرف شود.                  ۳ - ممکن است دوچرخه سوار ناگهان به سمت راست رفته و پیاده شود.                  ۴ - ممکن است دوچرخه سوار ناگهان توقف نماید.</p>



۷. خطوط طولی نشان داده شده در این شکل چه نوع خطوطی می باشد؟



- ۱ - خط مقطع یا بریده بریده
- ۲ - خط مستد و مقطع ترکیبی
- ۳ - خط طولی مستد
- ۴ - خطوط ماسور

۸. در تقاطع روبرو که فاقد چراغ راهنمایی است حق تقدم با کدام خودرو می باشد؟



- ۱ - خودروی شماره ۱
- ۲ - خودروی شماره ۲
- ۳ - خودرویی که فاقد تابلوی رعایت حق تقدم است
- ۴ - موارد ۲ و ۳

۹. کدامیک از موارد زیر در خصوص رانندگی در شب صحیح است؟

- ۱ - میزان تصادفات در شب کاهش می یابد.
- ۲ - در شب زمان کمتری طول می کشد تا راننده موانع موجود را ببیند.
- ۳ - محدوده دید راننده در شب کاهش می یابد.
- ۴ - با افزایش سرعت در شبها می توان کاهش دید را جبران کرد.

۱۱. کم بودن عمق شیار تایر منجر به چه می شود؟

- ۱ - کاهش مقدار اصطکاک میان تایر و سطح راه
- ۲ - افزایش احتمال آسیب به تایر
- ۳ - سر خوردن خودرو به ویژه در سطوح خیس یا مرطوب
- ۴ - تمام موارد

۱۲. منفلور از توقف چیست؟

- ۱ - ایست وسیله نقلیه در زمان طولانی بدون حضور راننده
- ۲ - ایست وسیله نقلیه در زمان کوتاه
- ۳ - ایست وسیله نقلیه در زمان طولانی با حضور راننده
- ۴ - ایست وسیله نقلیه برای هر مدت ممنوع

۱۳. کدام مورد زیر از علائم خستگی و خواب آلودگی راننده می باشد؟

- ۱ - تمرکز در رانندگی
- ۲ - توانایی کنترل خودرو بین خطوط حرکت
- ۳ - داشتن سرعت واکنش مناسب نسبت به شرایط
- ۴ - عدم کنترل آگاهانه بر سرعت خودرو

۱۴. از چند متری تقاطع ها سبقت گرفتن ممنوع است؟

- ۱ - ۴۰ متری
- ۲ - ۳۰ متری
- ۳ - ۵۰ متری
- ۴ - سبقت گرفتن محدودیت ندارد

۱۵. استفاده از چراغ های چشمک زن و رنگارنگ در وسایل نقلیه .....؟

- ۱ - برای دید بیشتر اشیا، و اشخاص مانعی ندارد.
- ۲ - مانعی ندارد
- ۳ - ممنوع است مگر با مجوزهای لازم از مراجع ذیصلاح
- ۴ - تحت هر شرایطی حتی اخذ مجوز نیز ممنوع است.

۱۷. در شهرها و مناطق مسکونی، در خیابان های شریان اصلی حداکثر سرعت چند کیلومتر در ساعت است؟

- ۱ - ۱۰۰
- ۲ - ۹۵
- ۳ - ۶۰
- ۴ - ۸۵

۱۹. چه هنگام می توان از ترمز دستی استفاده نمود؟

- ۱ - تنها در سرعت های بالا
- ۲ - در هر شرایطی
- ۳ - هنگام توقف خودرو و یا در سرعت های بسیار پایین
- ۴ - هنگام توقف در سرازیرها یا سربالاییها

۲۱. کدامیک از موارد زیر جان فرد را نسبت به موارد دیگر دیرتر به خطر می اندازد؟

- ۱ - فقدان تنفس
- ۲ - بالا بودن درجه حرارت بدن
- ۳ - فقدان ضربان قلب
- ۴ - خونریزی شدید

۱۶. با مشاهده چراغ قرمز راهنمایی و در صورت نبودن خط ایست برای توقف در چند متری چراغ باید توقف کنیم؟

- ۱ - دو متری
- ۲ - سه متری
- ۳ - پنج متری
- ۴ - چهار متری

۱۸. استفاده از کدام نوع کمربند ایمنی در خودرو الزامی است؟

- ۱ - نوع کمربند ایمنی مهم نیست
- ۲ - دو نقطه ای
- ۳ - کمربند ران
- ۴ - سه نقطه ای

۲۰. کدام جمله درباره کیسه هوا صحیح نمی باشد؟

- ۱ - کیسه هوا، هنگام تشخیص ضربه ناشی از تصادف در کسری از ثانیه باز می شود.
- ۲ - فعال شدن کیسه هوا در حالتی که کمربند ایمنی بسته نشده باشد، نتایج مخرب تری خواهد داشت.
- ۳ - یکی از تکنولوژی های پیشرفته در زمینه ایمنی خودرو، سیستم کیسه هوا یا ایربگ می باشد.
- ۴ - با وجود کیسه هوا دیگر نیازی به کمربند ایمنی نمی باشد.

۲۲. قرار گرفتن طولانی مدت رانندگان در شرایط نامساعد زیست محیطی منجر به چه می شود؟

- ۱ - کسب انرژی مثبت و تلاش مضاعف
- ۲ - رانندگی سالم و حفظ حقوق اجتماعی دیگران
- ۳ - تحریک پذیری، عصبانیت زود هنگام و پرخاشگری
- ۴ - رانندگی ایمن و رعایت اصول رانندگی صحیح

# آزمون شماره ۱۴





# نامه راهنمایی و رانندگی

شماره نامه: \_\_\_\_\_

۱۴

زمان ۲۰ دقیقه

از گذاشتن هرگونه علامت بر روی برگه آزمون جدا خودداری فرمایید

۲۴ کدام یک به معنای راننده معلول است؟



۲۳ این شکل چه چیزی را نشان می دهد؟



- ۱ - عدم رعایت سرعت مجاز
- ۲ - محدوده نقاط کور در خودروهای سنگین \*
- ۳ - عدم رعایت حق تقدم عبور
- ۴ - سطح روشنایی چراغ ها

۲۶ چرا قبل از سبقت گرفتن از یک کامیون طویل باید فاصله را با آن کاملا حفظ کنید؟

- ۱ - زیرا برای سبقت گرفتن از کامیون طویل در پیچ ها باید شتاب کافی داشته باشید .
- ۲ - سبقت گرفتن از خودروهای طویل ممنوع است .
- ۳ - برای اینکه در نقطه کور قرار بگیرید .
- ۴ - برای اینکه از موقعیت جلوی کامیون اطلاع کافی داشته و در نقطه کور قرار نگیرید \*

۲۵ در صورت دیدن حرکت گله و رمه چگونه باید عمل نمود؟

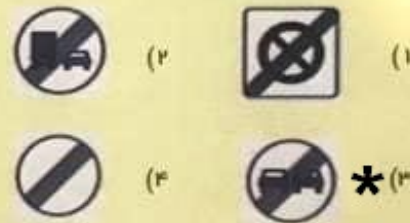
- ۱ - رانندگان موظفند از سرعت خود کاسته و در صورت لزوم تا عبور احتشام توقف نمایند \*
- ۲ - باید به سرعت عبور نمود .
- ۳ - نباید توقف کرد .
- ۴ - باید با چراغ و بوق زدن، گله و رمه را متوجه نمود .

۲۸ مفهوم این تابلو چیست؟



- ۱ - مسیر کامیون حامل کالای خطرناک \*
- ۲ - عبور وسایل نقلیه باری آزاد است .
- ۳ - مسیر یک طرفه وسایل نقلیه باری
- ۴ - مسیر کامیون حامل کالای تجاری

۲۷ کدامیک از تابلوهای زیر به معنای پایان سبقت ممنوع می باشد؟



۳۰ در این تقاطع، حق تقدم عبور به ترتیب با کدام خودروها می باشد؟




- ۱ - آبی، زرد، نارنجی و سبز
- ۲ - زرد، آبی، نارنجی و سبز
- ۳ - سبز، نارنجی، زرد، آبی
- ۴ - سبز، آبی، نارنجی، زرد \*

۲۹ منظور از این چراغ چیست؟



- ۱ - در این حالت عبور مستقیم و گردش در جهت پیکان مجاز می باشد .
- ۲ - عبور مستقیم مجاز بوده ولی گردش به سمت پیکان غیر مجاز می باشد \*
- ۳ - حرکت به صورت مستقیم ممنوع است .
- ۴ - صرفاً می توان به سمت راست حرکت نمود .

۱ کدام تابلو بیانگر پایان منطقه توقف ممنوع می باشد؟



۲ عنوان این تابلو چیست؟



- ۱ - راه لغزنده
- ۲ - دست انداز
- ۳ - چاله \*
- ۴ - شانه خطرناک

۳ این تابلو بیانگر چیست؟



- ۱ - بسته بودن یکی از خطوط عبور
- ۲ - تقاطع با راه آهن
- ۳ - تقاطع با راه آهن دو خطه
- ۴ - تقاطع راه آهن با راهبند \*

۴ این تابلو بیانگر چیست؟




- ۱ - عبور کامیون با طول بیش از ۱۰ متر ممنوع \*
- ۲ - عبور با عرض بیش از ۱۰ متر ممنوع
- ۳ - عبور با بار بیش از ۱۰ تن بر هر محور ممنوع
- ۴ - خودرو طویل

۵ این تابلو بیانگر چیست؟



- ۱ - فقط عبور پیاده
- ۲ - گذرگاه پیاده \*
- ۳ - فقط عبور دوچرخه و پیاده
- ۴ - عبور اطفال

۶ این تابلو بیانگر چیست؟



- ۱ - طول محدوده خطر
- ۲ - طول ممنوعیت با محدودیت پارکینگ \*
- ۳ - عبور کامیون با طول بیش از ۱۰ متر ممنوع
- ۴ - رعایت فاصله کمتر از ۱۰ متر ممنوع



۷ کدام نوع از خطوط بارک در این شکل نشان داده شده است؟



- ۱ - مورب
- ۲ - افقی
- ۳ - عمودی
- ۴ - هیچ کدام

۸ منظور از وسیله نقلیه طویل چیست؟



- ۱ - وسیله نقلیه ای است که طول آن کمتر از ۲۲/۵ متر باشد.
- ۲ - وسیله نقلیه ای است که طول آن بیش از ۱۲/۵ متر باشد.
- ۳ - وسیله نقلیه ای است که طول آن بیش از ۱۸/۵ متر باشد.
- ۴ - هر نوع خودروی باربری

۹ مجموع مسافتی که در زمان واکنش طی می شود به علاوه مسافت ترمزها ، چه نام دارد؟

- ۱ - مسافت ترمز
- ۲ - مسافت توقف
- ۳ - مسافت واکنش
- ۴ - مسافت اضطراری

۱۰ میزان سرعت مجاز و محدودیت سرعت در جاده ها و خیابان ها به چه صورت مشخص می شود؟

- ۱ - سرعت مجاز بسته به نوع خودرو و مدل آن قابل تغییر است.
- ۲ - با توجه به مواردی که GPS خودرو نشان می دهد.
- ۳ - با توجه به تابلوهای نصب شده و آیین نامه راهنمایی و رانندگی.
- ۴ - با توجه به دستور متصدی جاده ها مشخص می شود.

۱۱ کیف بودن شیشه های خودرو به چه دلیل می تواند خطرناک باشد؟

- ۱ - باعث کاهش مقاومت شیشه در برخوردها می شود.
- ۲ - باعث کاهش دید می شود.
- ۳ - باعث خراب شدن برف پاک کن ها می شود.
- ۴ - تمام موارد

۱۲ کدام یک به مفهوم « ایست وسیله نقلیه برای هر مدت ممنوع » می باشد؟

- ۱ - ایستادن
- ۲ - ایستادن ممنوع
- ۳ - توقف
- ۴ - توقف ممنوع

۱۳ از کدام علامت آگاه سازی برای سبقت در نسب استفاده می شود؟

- ۱ - استفاده از بوی کوتاه
- ۲ - فقط تبدیل و تعویض نور چراغ بالا و پایین
- ۳ - تبدیل و تعویض نور چراغ بالا و پایین به همراه چراغ راهنما
- ۴ - استفاده از بوی بلند بطور متناوب

۱۴ سبقت از طرف راست وسیله نقلیه ای که در حال گردش به چپ می باشد .....؟

- ۱ - مجاز است
- ۲ - ممنوع است
- ۳ - در هنگام روز مجاز است
- ۴ - فقط در معابر شریانی درجه دو ممنوع است

۱۵ رانندگان وسایل نقلیه موظفند برای رویت کلیه اشیاء و اشخاص در جاده ها از چراغ ..... استفاده نمایند.

- ۱ - چراغهای جانبی عقب
- ۲ - نور پایین
- ۳ - چراغهای جانبی جلو
- ۴ - نور بالا

۱۶ هدف از طراحی شانه راه در دو طرف خط های عبور و رفت و برگشت کدام است؟

- ۱ - ایستادن برای استراحت
- ۲ - خط کمکی برای تردد و افزایش ظرفیت
- ۳ - تغییر سرعت برای پیوست به جریان ترافیک
- ۴ - توقف اضطراری

۱۷ حداقل سرعت در آزادراه های درون شهری چند کیلومتر در ساعت است؟

- ۱ - ۵۰
- ۲ - ۶۰
- ۳ - ۷۰
- ۴ - ۴۰

۱۸ وظیفه کدام قطعه مانع از ورود گرد و غبار و دیگر ذرات معلق به داخل موتور می باشد؟

- ۱ - فیلتر روغن
- ۲ - فیلتر سوخت
- ۳ - فیلتر هوا
- ۴ - فن

۱۹ در این سه راه ، حق تقدم عبور به ترتیب با کدام یک می باشد؟



- ۱ - ابتدا ۳ سپس ۱ و ۲ با هم
- ۲ - به ترتیب ۱ ، ۲ ، ۳
- ۳ - به ترتیب ۳ ، ۲ ، ۱
- ۴ - ابتدا ۱ و ۲ با هم سپس ۳

۲۰ سطح روغن موتور را با چه وسیله می توان کنترل نمود؟

- ۱ - فیلتر روغن
- ۲ - در مخزن روغن
- ۳ - سیم روغن (کیچ روغن)
- ۴ - پمپ روغن

۲۱ در خصوص احتیاط های لازم هنگام وقوع تصادفات انجام کدامیک از موارد زیر اشتباه است؟

- ۱ - روشن نگه داشتن خودرو حتی در صورتی که خودرو قابلیت حرکت ندارد
- ۲ - هشدار توسط افراد به دیگر رانندگان تا سرعت خودرو را کاهش دهند.
- ۳ - استفاده از تابلو اعلان خطر
- ۴ - تذکر جهت روشن نکردن سیگار در صورت آسیب پاک سوخت خودروها

۲۲ علائم خستگی در رانندگی چیست؟

- ۱ - راندن خودرو با سرعت مطمئنه و رعایت قوانین و مقررات
- ۲ - کم شدن توجه به رانندگی و کاهش سرعت تصمیم گیری
- ۳ - نشاط و پر انرژی بودن در رانندگی
- ۴ - رانندگی ایمن و رعایت سرعت مجاز



# آزمون شماره ۱۵



# نامه راهنمایی و رانندگی

(سوم)

زمان ۳۰ دقیقه

از گذاشتن هرگونه علامت بر روی برگه آزمون جدا خودداری فرمایید

۱۵



۲ عنوان این تابلو چیست؟

۱ - راننده معلول

۲ - معلولیت مطلق

۳ - راننده ناشنوا

۴ - جانبازان و معلولین

۱ کدام تابلو بیانگر مسیر کامیون حامل کالای خطرناک نمی باشد؟



(۲)



(۱)



(۴)



(۳)



۴ این تابلو بیانگر چیست؟

۱ - بوق زدن ممنوع

۲ - بوق زدن در شب آزاد

۳ - تعمیرگاه

۴ - منطقه بوق زدن آزاد



۲ این تابلو بیانگر چیست؟

۱ - پیچ به چپ

۲ - تراکم ترافیک

۳ - میدان

۴ - جهت عبور در میدان



۶ این تابلو بیانگر چیست؟

۱ - تفرجگاه

۲ - پارکینگ

۳ - خطوط منقطع

۴ - تقاطع فرعی با اصلی در قوس



۵ این تابلو بیانگر چیست؟

۱ - فقط عبور پیاده

۲ - تفرج گاه

۳ - گذرگاه پیاده

۴ - شروع محل پیاده روی

۲۴ خودروی نشان داده شده در این شکل مشغول انجام چه نوع پارکی است؟



۱ - پارک مورب

۲ - پارک عمودی

۳ - پارک دوبل

۴ - پارک مستقیم

۲۳ در چه فاصله ای از مراکز آتش نشانی توقف وسیله نقلیه ممنوع است؟

۱ - ۲۰ متری

۲ - ۲۵ متری

۳ - ۱۵ متری

۴ - محدودیتی ندارد

۲۶ در این شکل ( تقاطع هم عرض ) حق تقدم عبور با کدام خودرو می باشد؟



۱ - همزمان می توانند وارد یک مسیر شوند.

۲ - وسیله ای که در سمت راست وسیله دیگر قرار دارد.

۳ - وسیله ای که به سمت راست گردش می کند

۴ - وسیله ای که به سمت چپ گردش می کند.



۲۸ مفهوم چراغ سبز راهنمایی چیست؟

۱ - ایست کامل و سپس عبور

۲ - عبور با گردش آزاد است مگر آنکه گردش نمودن توسط علائم دیگر ممنوع شده باشد

۳ - با مشاهده این چراغ رعایت حق تقدم وسایلی که مستقیم حرکت می کنند و یا عابرین پیاده الزامیست .

۴ - موارد ۲ و ۳ صحیح می باشند.



۲۷ مفهوم این تابلو چیست؟

۱ - ورود به راه اصلی از چپ

۲ - تقاطع

۳ - ورود به راه اصلی از راست

۴ - تقاطع فرعی و اصلی

۲۰ در امن کردن محل حادثه ترافیکی ، کدام مورد صحیح نمی باشد؟

۱ - مراقبت از سلامت خود

۲ - خاموش کردن وسیله نقلیه حادثه ساز

۳ - دور کردن مصدوم از محل حادثه

۴ - نجات دادن جان مصدوم گیر افتاده در آتش

۲۹ انجام کدام یک از اعمال زیر در خصوص زخمیهای صحنه تصادف نادرست است؟

۱ - دلجویی از آنها

۲ - گرم نگه داشتن آنها

۳ - ایجاد شرایطی که زخمیها تنها نمانند

۴ - دادن خوراکی به افراد زخمی



### ۱- مفهوم این تابلو چیست؟



- ۱- عبور عابر پیاده ممنوع
- ۲- دو عبور با بار ممنوع
- ۳- عبور خودروهای کشاورزی ممنوع
- ۴- عبور چرخ دستی ممنوع

### ۸- مفهوم این تابلو چیست؟



- ۱- پایان خیابان اصلی
- ۲- ابتدای خیابان اصلی
- ۳- خیابان اصلی
- ۴- ورود ممنوع

۹- قبل از شروع حرکت باید کدامیک از چراغهای خودرو مورد بازبینی قرار گیرد؟

- ۱- چراغ جلو- چراغ خطر- چراغهای راهنما- چراغ دنده عقب
- ۲- چراغ جلو- چراغ عقب- چراغ راهنما- چراغ ABS
- ۳- چراغ جلو+چراغ عقب و چراغ راهنما در صورت کثیف بودن.
- ۴- نیازی به بازبینی چراغها نمی باشد.

۱۰- کدام مورد در ایجاد سوانح ترافیکی نقش بیشتری دارد؟

- ۱- تابلوها
- ۲- چراغ های راهنما
- ۳- سرعت مطمئنه
- ۴- عدم رعایت نکات ایمنی

۱۱- کدام یک مشمول محدودیت های قانونی رانندگی می شود؟

- ۱- ضعف شنوایی
- ۲- ضعف بینایی
- ۳- ناتوانی های جسمی
- ۴- تمام موارد

۱۲- رانندگانی که قصد تغییر مسیر یا توقف وسیله نقلیه خود را دارند موظفند از چه فاصله ای با چراغ راهنما علامت بدهند؟

- ۱- ۲۰۰ متری
- ۲- ۱۵۰ متری
- ۳- ۱۰۰ متری

۱۳- حداکثر سرعت در آزادراه های برون شهر و مناطق غیر مسکونی برای انواع وانت بارها چند کیلومتر در ساعت است؟

- ۱- ۱۲۰
- ۲- ۱۲۵
- ۳- ۷۰
- ۴- ۹۵

۱۴- رانندگانی که از راه فرعی وارد راه اصلی می شوند باید.....

- ۱- سریعاً به سمت راست گردش نماید
- ۲- با روشن نمودن راهنما وارد راه اصلی شوند
- ۳- سریعاً به سمت چپ گردش نماید
- ۴- پیش از ورود در صورت لزوم توقف و با رعایت حق تقدم وارد راه اصلی شود

۱۵- در این تقاطع حق تقدم عبور به ترتیب با کدام خودرو می باشد؟



- ۱- سبز نارنجی زرد آبی
- ۲- زرد آبی نارنجی و سبز
- ۳- آبی زرد نارنجی و سبز
- ۴- سبز آبی نارنجی زرد

۱۶- هرگاه وسیله نقلیه سرپیچ یا تپه ای از کار بیفتد علایم باید در فاصله های مناسبی قرار داده شود تا رانندگان وسایل نقلیه دیگر از فاصله..... متوجه خطر شوند.

- ۱- ۱۵۰ متری
- ۲- ۲۰۰ متری
- ۳- ۵۰ متری

۱۷- از چند متری بیج ها سبقت گرفتن ممنوع است؟

- ۱- ۵۰ متری
- ۲- ۳۰ متری
- ۳- ۴۰ متری
- ۴- سبقت گرفتن محدودیت ندارد

۱۸- محل قرارگیری تایرها در خودرو باید در هر چند کیلومتر پیمایش تعویض گردد؟



- ۱- ۲۰ هزار کیلومتر
- ۲- ۵ هزار کیلومتر
- ۳- ۱۵ هزار کیلومتر
- ۴- ۲۵ هزار کیلومتر

۲۰- وظیفه ترموستات در خودرو چیست؟

- ۱- قطع و وصل کردن مدار آب از موتور به رادیاتور
- ۲- خنک کردن آب داخل لوله های رادیاتور
- ۳- به گردش درآوردن آب داخل پوسته موتور و اطراف سیلندرها
- ۴- تصفیه آب رادیاتور



۱۹- مهمترین مزیت ترمز ضد قفل چیست؟

- ۱- حفظ فرمان پذیری خودرو و جلوگیری از لغزش
- ۲- افزایش قدرت و سرعت خودرو
- ۳- افزایش شتاب خودرو

کمکهای اولیه چیست؟

- ۱- به اقدامات اولیه میگویندکه بلافاصله پس از بروز سانحه وقبل از رسیدن به مرکز درمانی صورت می گیرد.
- ۲- به اقدامات اولیه که در درمانگاه و اورژانس انجام
- ۳- به اقدامات اولیه قبل از بروز حادثه و برای جلوگیری از آن می گویند
- ۴- اقدامات صورت گرفته توسط پرستاران در مرکز اورژانس گویند

۲۲- رانندگان پرخاشگر معمولاً در رانندگی به رفتارهایی متوسل می شوند؟

- ۱- مانور و تغییر مسیر به طور مکرر- بوق زدن های بیهوده و- عبور از خط مقابل برای رهایی از ترافیک
- ۲- توهین به سایر رانندگان- تغییر مسیر ناگهانی و خطر آفرین برای سایر رانندگان
- ۳- قرار گرفتن به مدت طولانی در خط سرعت به منظور تنبیه اتومبیل پشت سر
- ۴- همه موارد

# آزمون شماره ۱۶





و رانندگی

موم

زمان ۲۰ دقیقه

تعداد: ۳۰ سؤال

از گذاشتن هر گونه علامت بر روی برگه آزمون جدا خودداری فرمایند

۱۶

۲ عنوان این تابلو چیست؟



- ۱- ریزش کوه
- ۲- پرتاب سنگ
- ۳- راه لغزنده
- ۴- ریزش سنگ

۱ کدام تابلو بیانگر فقط عبور دوجرخه می باشد؟



۴ این تابلو بیانگر چیست؟



- ۱- ایست بازرسی (گمرک)
- ۲- ورود ممنوع
- ۳- ورود از هر دو طرف ممنوع
- ۴- توقف ممنوع

۲ این تابلو بیانگر چیست؟



- ۱- تقاطع راه آهن با راهبند
- ۲- جهت وزش باد شدید از چپ
- ۳- جهت وزش باد شدید از راست
- ۴- تقاطع راه آهن بدون راهبند

۶ مفهوم این تابلو چیست؟



- ۱- مسیر ویژه اتوبوس شرکت واحد
- ۲- ایستگاه اتوبوس
- ۳- مسیر ویژه وسایل نقلیه سنگین
- ۴- مسیر قطار شهری

۵ این تابلو بیانگر چیست؟



- ۱- تلفن عمومی
- ۲- جایگاه سوخت
- ۳- تعمیرگاه
- ۴- استراحت گاه کاروان

۲۴ شماره های ۱۷ تا ۱۹ به ترتیب بیانگر چه قطعانی هستند؟



- ۱- پدال های ترمز، کلاچ و گاز
- ۲- پدال های گاز، ترمز و کلاچ
- ۳- ترمز دستی، پدال گاز و پدال کلاچ
- ۴- دسته دنده، ترمز دستی و پدال گاز

۲۶ مفهوم چراغ زرد راهنمایی چیست؟



- ۱- با احتیاط می توان عبور کرد
- ۲- عبور کاملا آزاد است.
- ۳- گردش به چپ آزاد است.
- ۴- با مشاهده این چراغ رانندگان نباید به تقاطع یا گذرگاه عابر پیاده وارد شوند.

۲۸ در این شکل حق تقدم عبور با کدام خودرو می باشد؟



- ۱- خودروی ۲
- ۲- بستگی به سرعت خودروها دارد.
- ۳- خودروی ۱
- ۴- خودرویی که در مسیر مستقیم حرکت می کند.

۳۰ مفهوم این تابلو چیست؟



- ۱- پیچ به راست
- ۲- دور زدن ممنوع
- ۳- پیچ به چپ
- ۴- گردش به چپ ممنوع

۲۳ رانندگانی که قصد گردش یا توقف را دارند، باید از چه فاصله ای به وسیله چراغ راهنما علامت بدهند؟

- ۱- ۲۰۰ متری
- ۲- ۱۵۰ متری
- ۳- ۱۰۰ متری
- ۴- ۲۵۰ متری

۲۵ در چه شرایطی می توان با لاستیک های فرسوده رانندگی نمود؟

- ۱- در صورت خشک بودن راه مجاز است.
- ۲- تحت هر شرایطی ممنوع است.
- ۳- در راههای یخ زده و برفی ممنوع است.
- ۴- موارد ۱ و ۳

۲۷ ایستادن یا توقف وسایل نقلیه در کدام یک از محل های زیر ممنوع است؟

- ۱- پیاده رو و گذرگاه پیاده
- ۲- در فاصله ۱۵ متری میدان یا تقاطع یا سه راه ها یا تقاطع راه آهن
- ۳- از ابتدا تا انتهای پیچ ها
- ۴- تمام موارد

۲۹ مفهوم این تابلو چیست؟



- ۱- خطر در گردش به راست
- ۲- خطر در گردش به چپ
- ۳- پیچهای پی در پی، اولین پیچ به چپ
- ۴- پیچ های پی در پی، اولین پیچ به راست



۷ کدام نوع از خطوط پارک در این شکل نشان داده شده است؟



۱ - افقی

۲ - مورب

۳ - عمودی

۴ - پارک طبقاتی

۹ مسافتی که از زمان ترمز تا زمان توقف طی می شود چه نام دارد؟

۱ - مسافت واکنش

۲ - مسافت توقف

۳ - مسافت ترمز

۴ - مسافت اضطراری

۱۱ حداقل عمق شیار تایرها چند میلی متر باید باشد؟

۱ - ۴

۲ - ۱۵

۳ - ۱/۵

۴ - ۵/۰

۱۳ هرگاه وسیله نقلیه ای شب در کنار و بیرون سطح راه توقف نماید و نور کافی در آن محل برای تشخیص آنشخاص از فاصله ۱۵۰ متری وجود نداشته باشد انجام کدام مورد زیر ضروری است؟

۱ - روشن نگهداشتن چراغهای کوچک جلو و خطر عقب وسیله نقلیه

۲ - روشن نمودن چراغهای بزرگ با نور بالا

۳ - نگهداشتن پدال ترمز برای روشن شدن چراغ ترمز

۴ - روشن نمودن راهنمای سمت راست خودرو

۸ مفهوم رنگ زرد در علائم عبور و مرور چیست؟

۱ - راهنما برای مناطق اداری و آموزشی و خدمتی

۲ - منع کننده یا ایست

۳ - هشدارهای عمومی و هشدار برای انجام عملیات ساختمانی و یا تعمیر و نگهداری

۴ - راهنما برای مناطق تفریحی و فرهنگی و گردشگری

۱۰ کدام یک از موارد زیر در خصوص حرکت با سرعت زیاد صحیح نمی باشد؟

۱ - مدممات و تلفات در تصادفات با سرعت زیاد بیشتر است.

۲ - در سرعتهای بالا زمان واکنش نسبت به خطرات بسیار افزایش می یابد.

۳ - احتمال کشته شدن در تصادفات با سرعتهای بالا بسیار زیاد است.

۴ - کنترل وسیله نقلیه در سرعتهای بالا بسیار سخت است.

۱۲ حداکثر میزان سرعت مجاز انواع سواری در بزرگراه های بیرون شهری چند کیلومتر در ساعت است؟

۱ - ۱۲۰

۲ - ۱۲۵

۳ - ۱۱۰

۴ - ۱۰۰

۱۴ از چند متری بپچ ها سبقت گرفتن ممنوع است؟

۱ - ۳۰ متری

۲ - ۵۰ متری

۳ - ۴۰ متری

۴ - سبقت گرفتن در بپچ ها محدودیت ندارد

۱۵ در راه های مسطح که دو طرف راه منتهی به کوه و پرتگاه می باشد حق تقدم با کدام وسیله کیست؟

۱ - آن که از سرعت بیشتری برخوردار است .

۲ - آن که در طرف کوه قرار دارد .

۳ - آن که در حال سبقت است .

۴ - آن که در طرف پرتگاه قرار دارد

۱۷ حداقل سرعت در آزاد راه های درون شهری چند کیلومتر در ساعت است؟

۱ - ۳۰ کیلومتر در ساعت

۲ - ۵۰ کیلومتر در ساعت

۳ - ۷۰ کیلومتر در ساعت

۴ - ۶۰ کیلومتر در ساعت

۱۹ در این تقاطع، حق تقدم عبور به ترتیب با کدام یک می باشد؟



۱ - آب ، قهوه ای

۲ - قهوه ای ، آب

۳ - هر سه خودرو با هم می توانند حرکت کنند.

۴ - فقط خودروی قهوه ای مجاز به حرکت می باشد.

۲۱ کمک های اولیه چیست؟

۱ - به اقدامات صورت گرفته توسط پرستاران در مرکز اورژانس گویند.

۲ - به اقدامات اولیه ای گویند که در درمانگاه یا مراکز اورژانس انجام می شود.

۳ - به اقدامات اولیه ای گویند که مصدوم را در محل حادثه از خطر مرگ نجات ده.

۴ - به اقدامات اولیه ای گویند که بلافاصله در محل حادثه و قبل از رسیدن اورژانس در غایت صورت می گیر.

۱۶ منظور از طراحی خط ایست در ورودی تقاطع کدام است؟

۱ - حرکت عابران پیاده بر روی خط مورد نظر

۲ - مرز توقف وسایل نقلیه

۳ - اعلام خطر به کاربران ترافیک

۴ - رویت شبکه معابر هنگام تاریکی

۱۸ کدام یک جزو سیستم انتقال قدرت نمی باشد؟

۱ - کلاچ

۲ - میل لنگ

۳ - گیربکس

۴ - دیفرانسیل

۲۰ کدام گزینه درباره ضدیخ صحیح نمی باشد؟

۱ - ضدیخ در جلوگیری از زنگ زدگی رادیاتور و قطعات سیستم خنک کاری موثر است.

۲ - عدم استفاده از ضدیخ در تابستان می تواند منجر به جوش آوردن زودتر موتور شود.

۳ - بهتر است که مخزن رادیاتور به جای آب از ضدیخ پر شود

۴ - مایع ضدیخ از یخ زدگی آب در سرما جلوگیری می کند.

۲۲ کدام گزینه نادرست است؟

۱ - خوردن غذاهای سنگین از عوامل خواب آلودگی در رانندگی است.

۲ - عدم درک مناسب از موقعیت و شرایط موجود از نشانه های خستگی در رانندگی است.

۳ - عواطف و احساسات بر سیستم اعصاب رانندگان تاثیر خاصی ندارد.

۴ - یکی از نوشیدنی هایی که عملکرد راننده را مختل می سازد مشروبات الکلی است.



# آزمون شماره IV



# نامه راهنمایی و رانندگی

شماره: ۱۷

زمان ۲۰ دقیقه

از گذاشتن هرگونه علامت بر روی برگه آزمون جدا خودداری فرمایید

۱ کدام تابلو بیانگر حداکثر سرعت در خط های عبور است؟



(۲)



(۱)



(۴)



(۳)

۲ عنوان این تابلو چیست؟



۱ - پرتاب سنگ

۲ - ریزش سنگ

۳ - شانه خطرناک

۴ - عبور از آب

۳ این تابلو بیانگر چیست؟



۱ - ایستادن ممنوع

۲ - ایست

۳ - توقف ممنوع

۴ - ورود ممنوع

۴ این تابلو بیانگر چیست؟



۱ - توقف ممنوع

۲ - پایان سبقت ممنوع

۳ - پایان تمام محدودیتها

۴ - تقاطع با راه آهن

۵ این تابلو بیانگر چیست؟



۱ - بن بست

۲ - بسته بودن یکی از خطوط عبور

۳ - سمت راست بن بست

۴ - خط عبور برای گریز

۶ مفهوم این تابلو چیست؟



۱ - عبور با ارتفاع بیش از ۲ متر ممنوع

۲ - عبور با عرض بیش از ۲ متر ممنوع

۳ - عبور وسایل نقلیه با وزن بیش از ۲ تن ممنوع

۴ - عبور با بار بیش از ۲ تن بر هر محور ممنوع

۲۴ شماره های ۱۷ تا ۱۹ به ترتیب بیانگر چه قطعانی هستند؟



۱ - دسته دنده، ترمز دستی و پدال گاز

۲ - پدال های گاز، ترمز و کلاچ

۳ - ترمز دستی، پدال گاز و پدال کلاچ

۴ - پدال های ترمز، کلاچ و گاز

۲۳ این شکل چه موردی را هشدار می دهد؟



۱ - رمفی که شرایط جاده استاندارد نیست باید احتیاط نمود.

۲ - موتورسیکلت ها همیشه دارای حق تقدم هستند.

۳ - هنگام گردش باید مراقب بود فضای کافی برای موتورسواران احتمالی در نظر گرفت.

۴ - همواره از گردش به چپ خودداری نمایید.

۲۶ رانندگان با مشاهده چراغ قرمز چشمک زن در تقاطع باید چه عملی انجام دهند؟



۱ - کاملا توقف نموده و سپس با سرعت زیاد حرکت کنند.

۲ - از سرعت خود کاسته و با احتیاط عبور کنند.

۳ - عبور آزاد است ولی باید از سرعت کم از تقاطع عبور کنند.

۴ - قبل از ورود به تقاطع یا گذرگاه عابر پیاده توقف کرده و پس از اطمینان از عدم وجود خطر تصادف عبور کنند.

۲۵ در برخورد راه اصلی با راه فرعی حق تقدم با کیست؟

۱ - با وسیله ای است که از راه فرعی عبور می کند

۲ - تفاوتی ندارد

۳ - با وسیله ای که در مسیر مستقیم حرکت می کند

۴ - با وسیله ای است که از راه اصلی عبور می کند

۲۸ مفهوم این تابلو چیست؟



۱ - عبور دو طرفه

۲ - حق تقدم عبور با وسیله نقلیه مقابل است

۳ - عبور از هر دو طرف ممنوع

۴ - توقف در روزهای زوج ممنوع

۲۷ مفهوم این تابلو چیست؟



۱ - پارک سوار معلولین

۲ - راننده معلول

۳ - پارکینگ مخصوص افراد معلول

۴ - پارکینگ

۲۰ در ارائه کمک های اولیه اصل کلی بر این است که....

۱ - سریع به مصدومین کمک نمایید

۲ - سریع محل حادثه جمع آوری شود

۳ - در ارائه امداد روش کم خطر را به کار ببرید

۴ - مصدوم را سریع از داخل خودرو بیرون بکشید

۲۹ راننده ای که مرتکب تصادف منجر به جرح یا فوت می گردد چه وظیفه ای دارد؟

۱ - بلافاصله وسیله نقلیه را از محل تصادف خارج کند

۲ - بلافاصله وسیله نقلیه را در محل تصادف متوقف سازد

۳ - با نصب علائم ایمنی هشدار دهنده، سایر رانندگان را از وقوع حادثه آگاه سازد

۴ - موارد ۲ و ۳ صحیح می باشد



۷ کدام نوع از خطوط پارک در این شکل نشان داده شده است؟



- ۱ - مورب
- ۲ - افقی
- ۳ - عمودی
- ۴ - هیچ کدام

۸ مفهوم رنگ آبی در علائم عبور و مرور چیست؟



- ۱ - راهنمای خدمات، حرکات مجاز، علائم اخباری و راهنمای مسیر در آزاد راه ها
- ۲ - منع کننده یا ایست
- ۳ - راهنما برای مناطق اداری و آموزشی و خدماتی
- ۴ - راهنما برای مناطق تفریحی و فرهنگی و گردشگری

۹ از زمانی که راننده تشخیص می دهد نیاز به توقف دارد تا لحظه به کار گرفتن ترمزها چه نام دارد؟

- ۱ - زمان ترمز
- ۲ - مسافت توقف
- ۳ - مسافت ترمز
- ۴ - زمان واکنش

۱۰ چگونه می توان نقاط کور را در رانندگی کاهش داد؟

- ۱ - کاهش ارتفاع خودرو با دستکاری در سیستم تعلیق
- ۲ - با تنظیم دقیق آینه ها
- ۳ - کم کردن سرعت خودرو
- ۴ - حذف آینه وسط

۱۱ از بوق به چه منظوری استفاده می شود؟

- ۱ - در مراسم های شادی
- ۲ - برای اخطار به راننده جلویی
- ۳ - برای آگاه سازی سایر کاربران راه و جلوگیری از بروز سانحه و خطر
- ۴ - تمام موارد

۱۲ منظور از ایست وسیله نقلیه در زمان کوتاه کدام است؟

- ۱ - ایستادن
- ۲ - ایستادن ممنوع
- ۳ - ایست وسیله نقلیه برای هر مدت ممنوع
- ۴ - ایست وسیله نقلیه در زمان طولانی

۱۳ برای کاستن سرعت هنگامی که وسیله نقلیه فاقد چراغ راهنما باشد باید ...

- ۱ - دست راست را به طرف پایین نگهداشت
- ۲ - دست چپ را به طرف بالا نگهداشت
- ۳ - دست چپ را به طور افقی نگهداشت
- ۴ - دست چپ را به طور افقی از بالا به پایین حرکت داد

۱۴ در راه های بیرون شهر حداکثر سرعت در شب ها در جاده های فرعی چند کیلومتر در ساعت است؟

- ۱ - ۸۵
- ۲ - ۹۵
- ۳ - ۶۵
- ۴ - ۷۵

۱۵ در راه های کوهستانی که در آن ها عبور از کنار وسایل نقلیه طرف مقابل غیرممکن و مشکل می باشد حق تقدم با وسیله نقلیه ای است که.....

- ۱ - در حال سبقت در سرازیری است
- ۲ - در جهت سرازیری در حرکت است
- ۳ - در جهت سربالایی در حرکت است
- ۴ - در جهت سرازیری و در مسیر مجاز در حرکت است

۱۷ در این شکل حق تقدم عبور به ترتیب با کدام خودرو ها می باشد؟



- ۱ - سبز، زرد، قرمز
- ۲ - قرمز، زرد، سبز
- ۳ - قرمز، سبز، زرد
- ۴ - زرد، سبز، قرمز

۱۹ ترمز دستی معمولاً ..... عمل می کند.

- ۱ - بر چرخهای جلو
- ۲ - بر چرخهای عقب
- ۳ - بر چرخهای سمت چپ
- ۴ - بر چرخهای سمت راست

۱۶ رانندگانی که قصد گردش به راست یا به چپ را دارند مکلفند از چه فاصله ای به وسیله چراغ راهنما علامت بدهند؟

- ۱ - ۲۵۰ متری
- ۲ - ۱۵۰ متری
- ۳ - ۲۰۰ متری
- ۴ - ۱۰۰ متری

۱۸ در موتور خودروها برای تصفیه روغن از چه وسیله ای استفاده می شود؟

- ۱ - مخزن روغن
- ۲ - پمپ روغن
- ۳ - فیلتر روغن
- ۴ - صافی بنزین

۲۰ کدام یک از موارد زیر جزو سیستم اگزوز خودرو می باشد؟

- ۱ - فیلتر هوا
- ۲ - کاتالیست
- ۳ - نشانگر سوخت
- ۴ - فن

۲۱ کدامیک از موارد زیر درخصوص کمک های اولیه صحیح می باشد؟

- ۱ - کمکهای اولیه سبب کاهش چشمگیر مرگ و میر و تخفیف بیماری و آسیبهای مسموم می شود.
- ۲ - کمکهای اولیه می تواند در محل حادثه یا در بیمارستان انجام شود.
- ۳ - انجام کمکهای اولیه حتماً باید توسط پزشکان صورت پذیرد.
- ۴ - کمکهای اولیه تاثیری در تخفیف بیماری و آسیبهای مجروح نداشته صرفاً جهت بالابردن روحیه بیمار صورت می گیرد.

۲۲ خودروهایی که دورشان خط کشیده شده، دچار چه خطایی شده اند؟



- ۱ - سرعت غیرمجاز
- ۲ - عدم رانندگی بین خطوط
- ۳ - عبور از خط عابر پیاده
- ۴ - حرکت در معابر غیرمجاز

# آزمون شماره ۱۸





# توجه به اهمیت ایمنی و رانندگی

(موسم)

زمان ۲۰ دقیقه

از گذاشتن هرگونه علاقت بر روی بزرگراه ممنوع است. ممنوع جدا خودداری فرمایید

۱۸

۲ عنوان این تابلو چیست؟



۱- پیچ های پی در پی

۲- شانه خطرناک

۳- راه لغزنده ✓

۴- راه از راست باریک می شود

۱ کدام تابلو بیانگر خط ویژه عبور می باشد؟



(۲)



(۱)



(۴)



(۳) ✓

۴ این تابلو بیانگر چیست؟



۱- دور زدن ممنوع ✓

۲- گردش به چپ ممنوع

۳- پیچهای پی در پی

۴- پیچ به چپ

۳ این تابلو بیانگر چیست؟



۱- ایست

۲- رعایت حق تقدم

۳- به تابلو رعایت حق تقدم نزدیک می شود

۴- خطر ✓

۶ مفهوم این تابلو چیست؟



۱- رعایت فاصله کمتر از ۷۰ متر ممنوع ✓

۲- رعایت فاصله بیشتر از ۷۰ متر ممنوع

۳- سرعت بیشتر از ۷۰ کیلومتر در ساعت ممنوع

۴- سبقت تا ۷۰ متر ممنوع

۵ این تابلو بیانگر چیست؟



۱- بن بست

۲- افزایش خطوط عبور

۳- بسته بودن یکی از خطوط عبور

۴- کاهش خطوط عبور ✓

۲۳ در این شکل حق تقدم عبور عبارتست از:



۱- زرد، سبز، خودروی امدادی

۲- خودروی امدادی، زرد، سبز

۳- خودروی امدادی، سبز، زرد ✓

۴- سبز، زرد، خودروی امدادی

۲۴ کدام یک در مورد دسته دنده اشتباه است؟



۱- اهرم دسته دنده معمولاً در سمت راست راننده قرار دارد.

۲- گمربکس خودروهای سواری معمولاً ۵ حالت (۵ سرعت) می باشد.

۳- اهرم دنده به طور مستقیم با سیستم کلاچ در ارتباط می باشد. ✓

۴- وقتی دنده در حالت خلاص باشد نیرویی به پشت چرخ های محرک منتقل نخواهد شد.

۲۶ رانندگان با مشاهده چراغ قرمز چشمک زن در تقاطع باید چه عملی انجام دهند؟



۱- کاملاً توقف نموده و سپس با سرعت زیاد حرکت کنند.

۲- از سرعت خود کاسته و با احتیاط عبور کنند.

۳- عبور آزاد است ولی باید با سرعت بالا از تقاطع عبور کنند.

۴- قبل از ورود به تقاطع یا گذرگاه عبور پیاده توقف کرده و پس از اطمینان از عدم وجود خطر تصادف عبور کنند. ✓

۲۸ تکیه نمودن و اویزان شدن اشخاص به وسایل نقلیه ..... مجاز است


۱- مجاز است

۲- با رعایت احتیاط مجاز است

۳- ممنوع است ✓

۴- در صورت بی خطر بودن مجاز است

۲۷ مفهوم مستطیل برجسی در علائم عبور و مرور کدام است؟



۱- دستوری و خدمات

۲- رعایت حق تقدم

۳- دستوری و بازدارنده

۴- علائم راهنما ✓

۳۰ کدامیک از تابلوهای زیر به مفهوم آن است که بیج هایی در جلو وجود دارد؟



(۲)



(۱) ✓



(۴)



(۳)

۲۹ کدام یک از عوامل مهم اتلاف سوخت و انرژی در خودروها محسوب می شود؟

۱- حرکت با سرعت مطمئنه

۲- عدم تنظیم موتور و احتراق ناقص در سیلندرها ✓

۳- رانندگی در شب

۴- رانندگی در مناطق سردسیر



۷ خط کنسی عرضی نشان داده شده در این شکل نشان دهنده چه نوع خط کنسی می باشد؟



۱- خط ممتد ایست

۲- خطوط توقف منقطع

۳- خط پیشی عبور پیاده

۴- خطوط شطرنجی

۸ مفهوم رنگ نارنجی در علائم عبور و مرور چیست؟



۱- راهنمای خدمات، حرکات مجاز، علائم اخباری و راهنمای مسیر در آژدرها ها

۲- راهنما برای مناطق اداری و آموزشی و خدماتی

۳- منع کننده یا ایست

۴- راهنما برای مناطق تفریحی و فرهنگی و گردشگری

۹ مدت زمانی که طول می کشد تا خودروی شما متوقف شود به چه عواملی بستگی دارد؟

۱- مسافت ترمز، ابعاد لاستیک، میزان دید

۲- طول خودرو، زمان واکنش، مسافت ترمز

۳- طول خودرو، سرعت خودرو، زمان واگر

۴- زمان واکنش، مسافت ترمز، مسافت توقف

۱۰ در زمستان و در هنگام برف و کولاک چه مواردی درخصوص تایر خودرو باید رعایت شود؟

۱- باید از تایر یخ شکن یا زنجیر چرخ استفاده نمود

۲- باید باد لاستیکی را ۱/۵ برابر بیشتر کرد.

۳- باید باد لاستیکی را ۱/۵ برابر کمتر کرد.

۴- باید از تایرهایی با عمق عاج کمتر از ۱/۵ میلی متر استفاده کرد.

۱۱ مهمترین وسیله هشدار دهنده در خودرو چیست؟

۱- نور بالا

۲- چراغ نور پایین

۳- بوق

۴- چراغ های راهنما

۱۲ در آیین نامه راهنمایی و رانندگی منظور از سلب اعتبار قانونی گواهینامه رانندگی کدام است؟

۱- استرداد گواهینامه

۲- انقضا، گواهینامه

۳- توقیف گواهینامه

۴- ابطال گواهینامه

۱۳ هنگام توقف اگر وسیله نقلیه چراغ راهنما نداشته باشد باید.....

۱- دست چپ را به طور افقی نگهداشت

۲- دست راست را به طرف پایین نگهداشت

۳- دست چپ را به طرف پایین نگهداشت

۴- دست راست را به طور افقی نگهداشت

۱۴ در جاده های اصلی، حداکثر سرعت در روز چند کیلومتر در ساعت است؟

۱- ۸۵

۲- ۹۵

۳- ۷۰

۴- ۶۰

۱۵ در راه هایی که مسیر حرکت وسایل نقلیه به علت وجود موانع ثابت بسته و یا برای عبور از مسیر مجاز کافی نباشد حق تقدم با وسیله نقلیه ای است که.....

۱- مسیر عبور آنها باز و یا سهم عبور بیشتری دارای می باشد.

۲- در طرف راست وسیله نقلیه قرار گرفته است.

۳- در طرف مقابل در حال حرکت است.

۴- از سرعت بیشتری برخوردار باشد.

۱۶ چراغ هایی که حضور وسیله نقلیه و عرض آن را از سمت جلو نشان می دهد کدام است؟

۱- چراغ های کوچک عقب

۲- چراغ جانبی عقب

۳- چراغ جانبی جلو

۴- چراغ توقف

۱۷ در این شکل حق تقدم عبور با کدام خودروها می باشد؟



۱- خودروهای قرمز

۲- خودروی آبی

۳- خودرویی که از چپ به راست در حال حرکت است

۴- خودرویی که از راست به چپ در حال حرکت است

۱۸ کدام یک جزو سیستم خنک کاری موتور نمی باشد؟

۱- رادیاتور

۲- میل لنگ

۳- ترموستات

۴- فن

۱۹ از..... برای کنترل پدال کلاچ و از..... برای کنترل پدالهای گاز و ترمز استفاده می شود.

۱- پای راست، پای چپ

۲- پای چپ، پای راست

۳- دست راست، پای چپ

۴- دست چپ، پای چپ

۲۰ ترمز سرویس (ترمز بایسی) مطابق با الزامات استانداردهای خودرویی باید بر..... عمل کند.

۱- بر چرخهای محرک

۲- بر چرخ های جلو

۳- بر چرخهای عقب

۴- تمامی چرخها

۲۱ راننده خودروی نشان داده شده در این شکل دچار چه خطایی شده است؟



۱- عدم رانندگی بین خطوط

۲- عدم رعایت فاصله طولی مناسب

۳- حرکت با سرعت زیاد

۴- سبقت غیرمجاز

۲۲ در انجام کمک های اولیه کدامیک از موارد زیر صحیح است؟

۱- در ارائه کمکهای اولیه باید روشی انتخاب شود که سریعتر جواب می دهد هرچند احتمال خطر در آن وجود داشته باشد.

۲- در ارائه کمکهای اولیه اصل بر این است که به سرعت بیمار را از محل حادثه دور نماییم.

۳- در ارائه کمکهای اولیه باید روشی انتخاب شود که موثرتر و مفیدتر از سایر روشها بوده و صدمه ای به مصدوم وارد نکند.

۴- حین ارائه کمکهای اولیه اگر آرامش ندارید سریعتر کار خود را باید به اتمام رسانید.



# آزمون شماره ۱۹



### بن نامه راهنمایی و رانندگی

تواهننامه رانندگی (موسم)

زمان ۲۰ دقیقه

از گذاشتن هرگونه علامت ... که آزمون جدا خودداری فرمایید



۲ عنوان این تابلو چیست؟



۱ - شانه خطرناک

۲ - راه لغزنده

۳ - پل متحرک

۴ - برآمدگی

۱ عنوان کدام تابلو راه یک طرفه می باشد؟



(۲)



(۱)



(۴)



(۳)

۴ این تابلو بیانگر چیست؟



۱ - حق تقدم عبور با شما

۲ - حق تقدم عبور با وسیله نقلیه مقابل است

۳ - سبقت ممنوع

۴ - عبور کلیه وسائط نقلیه ممنوع

۳ این تابلو بیانگر چیست؟



۱ - توقف ممنوع

۲ - سبقت ممنوع

۳ - عبور سواری ممنوع

۴ - عبور وسایل نقلیه موتوری ممنوع

۶ کدامیک از تابلوهای زیر به معنای محدوده توقف ممنوع در طول شبانه روز می باشد؟



(۲)



(۱)



(۴)



(۳)

۵ این تابلو بیانگر چیست؟



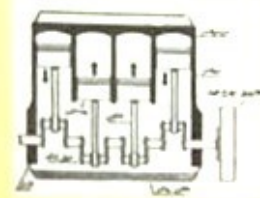
۱ - سبقت برای کامیون ممنوع

۲ - خط ویژه عبور به جز کامیون

۳ - پایان سبقت ممنوع برای کامیون

۴ - مسیر توصیه شده برای وسایل سنگین

۲۴ این شکل یک موتور چند سیلندر را نشان می دهد؟



۱ - ۸ سیلندر

۲ - ۳ سیلندر

۳ - ۴ سیلندر

۴ - ۶ سیلندر

۲۳ این شکل بیانگر چه موضوعی است؟



۱ - جهت فرار گیری چرخ ها هنگام پارک در سرازیری دارای جدول

۲ - جهت فرار گیری چرخ ها هنگام پارک در سربالایی دارای جدول

۳ - نحوه حرکت دنده عقب در سربالایی

۴ - نحوه حرکت در سرازیری

۲۶ رانندگان با مشاهده چراغ چشمک زن زرد در تقاطع چه عملی باید انجام دهند؟



۱ - با احتیاط کامل و سرعت کم عبور نمایند.

۲ - با زدن بوق و با سرعت اولیه به حرکت خود ادامه دهند.

۳ - با سرعت بالا از تقاطع عبور نمایند.

۴ - تا رسیدن اورژانس یا پلیس صبر نمایند.

۲۵ با کسانی که در مدت ضبط گواهینامه مبادرت به رانندگی نمایند چه برخوردی می شود؟

۱ - در صورتی که مرتکب خلاف نشوند، مشمول مجازات نمی شوند.

۲ - تا پایان عمر به آنها گواهینامه داده نخواهد شد.

۳ - به مرجع قضایی معرفی و به مجازات مقرر برای رانندگی بدون گواهینامه محکوم می شوند.

۴ - باید هرچه سریعتر خود را به مراجع قضایی معرفی کنند.

۲۸ مفهوم این تابلو چیست؟



۱ - خطر در گردش به راست

۲ - خطر در گردش به چپ

۳ - پیچهای پی در پی، اولین پیچ به چپ

۴ - پیچ های پی در پی، اولین پیچ به راست

۲۷ در صورتیکه در وسط تقاطع چراغ راهنمایی زرد شود .....

۱ - توقف نموده بلافاصله گردش به راست نمایید.

۲ - توقف نموده و با دنده عقب به پشت چراغ راهنمایی برگردید.

۳ - در همان محل توقف نموده و اجازه عبور را به سایرین بدهید.

۴ - با احتیاط کامل و سرعت کم عبور نمایید

۳۰ حمل و نقل پایدار شهری نیازمند چیست؟

۱ - کنترل و کاهش آلودگی هوا

۲ - مدیریت ترافیک

۳ - موارد ۱ و ۲

۴ - ممانعت از تولید خودروهای سواری شخصی

۲۹ در این شکل حق تقدم عبور عبارتست از:



۱ - زرد، سبز، خودروی امدادی

۲ - خودروی امدادی، زرد، سبز

۳ - خودروی امدادی، سبز، زرد

۴ - سبز، زرد، خودروی امدادی



۷ خط کنسی عرضی نشان داده شده در این شکل نشان دهنده چیست؟



- ۱- خط توقف منقطع
- ۲- این خطوط معمولاً در تقاطع‌ها کشیده می‌شود و رانندگان باید قبل از آن توقف کامل نمایند.
- ۳- خط کنسی عبور پیاده
- ۴- رانندگان باید از سرعت خود کاسته و با احتیاط و رعایت حق تقدم وارد راه اصلی شوند.

۸ مفهوم شکل مثلث مساوی الاضلاع (نشسته روی یک راس) در علائم عبور و مرور چیست؟



- ۱- شروع و پایان حق تقدم مسیر
- ۲- صرفاً برای رعایت حق تقدم
- ۳- معمولاً برای علائم راهنما
- ۴- علامت دستوری، بازدارنده

۹ کدامیک از موارد زیر در خصوص حرکت با دنده عقب صحیح است؟

- ۱- در حرکت به سمت عقب باید سریع حرکت کرده و از سمت مخالف راننده گردش نمود.
- ۲- در حرکت با دنده عقب باید به آرامی حرکت نموده و از فردی که در کنار شما در خودرو است بخواهید به عقب نگاه کند.
- ۳- در حرکت با دنده عقب باید میدان دید عقب را کنترل نموده و به آرامی و با نگاه کردن به فضای پشت حرکت نمود.
- ۴- در حرکت به سمت عقب نیازی به نگاه کردن به پشت سر نبوده و صرفاً از طریق آینه‌ها می‌توان این کار را انجام داد.

۱۰ بر باد بودن تایر خودرو می‌تواند باعث بروز کدامیک از موارد زیر شود؟

- ۱- باعث افزایش مصرف سوخت در سرعت‌های زیر ۵۰ کیلومتر در ساعت می‌شود.
- ۲- فرمان پذیری، خودرو را کاهش داده و باعث ایجاد خطر می‌گردد.
- ۳- باعث فرسایش تیر در سرعت‌های بالای ۵۰ کیلومتر خواهد بود.
- ۴- باعث سرخوردن لاستیک در حین ترمز در سرعت‌های زیر ۵۰ کیلومتر در ساعت می‌شود.

۱۱ کیف بودن شیشه چراغها منجر به چه می‌شود؟

- ۱- سوختن لامپ‌ها
- ۲- کاهش شدت روشنایی
- ۳- عدم کارکردن نوربالا
- ۴- از کار افتادن چراغ‌های راهنما

۱۲ کدام تابلو به مفهوم پارکینگ مخصوص افراد معلول می‌باشد؟



- ۱- (1) Blue square with white 'P'
- ۲- (2) Blue square with white wheelchair symbol
- ۳- (3) Blue square with white 'P' and wheelchair symbol
- ۴- (4) Blue square with white wheelchair symbol and 'محدوده'

۱۳ برای گردش به چپ اگر وسیله نقلیه موتوری فاقد چراغ راهنما باشد باید \_\_\_\_\_

- ۱- دست راست را به طرف بالا نگهداشت
- ۲- دست چپ را به طرف بالا نگهداشت
- ۳- دست چپ را به طرف پایین نگهداشت
- ۴- دست چپ را به طور افقی نگهداشت

۱۴ در بزرگراه‌های بیرون شهری و مناطق غیرمسکونی، حداکثر سرعت برای انواع سواری چند کیلومتر در ساعت است؟

- ۱- ۱۲۰
- ۲- ۱۱۰
- ۳- ۱۲۵
- ۴- ۱۳۰

۱۵ در خیابان و یا در تقاطعی که وسایل نقلیه روبروی یکدیگر حرکت می‌کنند هرگاه وسیله نقلیه بخواهد گردش به چپ بکند حق تقدم با وسیله ای نقلیه ایست که \_\_\_\_\_



- ۱- توقف نموده و با روشن نمودن راهنما قصد گردش به چپ را دارد.
- ۲- در طرف راست قرار دارد.
- ۳- راهنما خود را روشن نموده است.
- ۴- مستقیم و در مسیر مجاز حرکت می‌کند.

۱۶ هرگاه وسیله نقلیه موتوری در راه‌ها از کار بیفتد و به دلیل نور کافی نیاز به چراغ نباشد، راننده باید مثلث‌های شبرنگ را در چه فاصله ای از طرف عقب و جلو وسیله نقلیه به نحوی که قابل دیدن باشد قرار دهد؟

- ۱- ۷۰ - ۱۰۰ متری
- ۲- ۱۰۰ - ۱۵۰ متری
- ۳- ۱۵۰ - ۲۰۰ متری
- ۴- ۲۰۰ - ۲۵۰ متری

۱۷ روی یدک و هر نوع وسیله نقلیه ای که وسیله نقلیه دیگری آن را می‌کشد باید \_\_\_\_\_ بر روی وسیله نقلیه نصب تا سایر رانندگان آن را ببینند.

- ۱- پرچم قرمز به ابعاد حداقل ۱۰۰ سانتی متر
- ۲- پرچم قرمز به ابعاد ۵۰ سانتی متر
- ۳- پرچم سفید به ابعاد حداقل ۵۰ سانتی متر
- ۴- چراغ الکتریکی با نور قرمز

۱۸ وظایف روغن در موتور چیست؟

- ۱- روانکاری قطعات، کمک به خنک کاری
- ۲- خنک کاری قطعات
- ۳- صرفاً روان کاری قطعات
- ۴- جلوگیری از ورود گرد و غبار به موتور

۱۹ ترمز دستی به عنوان ترمز ..... و ترمز پایسی به عنوان ترمز ..... یا ترمز سرویس شناخته می‌شود.

- ۱- سرعتی قدرتی
- ۲- اولیه ثانویه
- ۳- قدرتی سرعتی
- ۴- ثانویه اولیه

۲۰ وظیفه کنیستر چیست؟

- ۱- از ورود بخارهای بنزین به فضای آزاد جلوگیری می‌کند.
- ۲- قدرت ترمزگیری را افزایش می‌دهد.
- ۳- فرمان پذیری خودرو را بهبود می‌بخشد.
- ۴- خرابی سیستم کیسه هوا را اعلام می‌کند.

۲۱ برای انجام کمک‌های اولیه اگر آرامش ندارید چه باید بکنید؟

- ۱- باید هرچه سریعتر صحنه را ترک نمایید.
- ۲- کشیدن چند نفس عمیق و آرام به شما کمک می‌کند تا آرامش خود را بدست آورده و به شرایط محیط تسلط یابید.
- ۳- باید سریعاً ارائه کمک‌های اولیه را به اتمام رسانید.
- ۴- به مصدوم بگویند در حال حاضر آرامش ندارید و نمی‌توانید کاری برای او انجام دهید.

۲۲ کدام یک جزو آلاینده‌های هوا نمی‌باشد؟

- ۱- مونواکسید کربن
- ۲- اکسیدهای نیتروژن
- ۳- اکسیژن
- ۴- ذرات معلق

# آزمون شماره ۲۰





# ن نامه راهنمایی و رانندگی

نام ( ) و نام ( )

زمان ۲۰ دقیقه

از گذاشتن هرگونه علامت بر روی برگه آزمون جدا خودداری فرمایید

۲۰




۱ عنوان این تابلو چیست؟

- ۱- گذرگاه عابر پیاده
- ۲- عبور عابر پیاده
- ۳- عبور اطفال
- ۴- عبور پیاده ممنوع

۱ کدام تابلو به مفهوم پارکینگ مخصوص افراد معلول می باشد؟

- ۱ (۱)
- ۲
- ۳ (۳)
- ۴ (۴)



۴ این تابلو بیانگر چیست؟

- ۱- توقف در روزهای فرد هفته ممنوع
- ۲- توقف در روزهای زوج هفته ممنوع
- ۳- ایستادن ممنوع
- ۴- منطقه توقف ممنوع



۲ این تابلو بیانگر چیست؟

- ۱- ورود ممنوع
- ۲- ورود از هر دو طرف ممنوع
- ۳- عبور کلیه وسائط نقلیه ممنوع
- ۴- پایان تمام محدودیتها



۵ این تابلو بیانگر چیست؟

- ۱- حداقل سرعت ۶۰ کیلومتر
- ۲- سرعت بیش از ۶۰ کیلومتر بر ساعت ممنوع
- ۳- سرعت توصیه شده
- ۴- رعایت فاصله کمتر از ۶۰ متر ممنوع

- ۱ (۱)
- ۲ (۲)
- ۳ (۳)
- ۴ (۴)

۲۴ مبدل کاتالیستی جزو کدام یک از سیستمهای خودرویی است؟



- ۱- سیستم روغن کاری
- ۲- سیستم خنک کاری
- ۳- سیستم اگزوز
- ۴- سیستم سوخت رسانی

۲۳ وسیله نقلیه ای که در مسیر مجاز در حال حرکت است نسبت به وسیله نقلیه متوقفی که در حال شروع به حرکت به جلو می باشد ، .....  
۱- حق تقدم عبور دارد   
۲- حق تقدم عبور ندارد.  
۳- در صورت داشتن سرعت، حق تقدم عبور دارد.  
۴- در صورت زدن چراغ راهنما، حق تقدم عبور دارد.

۲۶ رانندگان با مشاهده چراغ چشمک زن زرد در تقاطع چه عملی باید انجام دهند؟



- ۱- با زدن بوق و با سرعت اولیه به حرکت خود ادامه دهند.
- ۲- با احتیاط کامل و سرعت کم عبور نمایند
- ۳- در صورت ضرورت سریع عبور نمایند.
- ۴- با افزایش سرعت تقاطع را تخلیه نمایند.

۲۵ در چه شرایطی می توان ساسی خودرو را عوض نمود؟  
۱- در هیچ شرایطی نمی توان عوض نمود.  
۲- تعویض آن دلخواه و بدون اشکال است.  
۳- تنها با مجوز راهنمایی و رانندگی میتوان به این کار اقدام نمود   
۴- مجوز کارخانه سازنده برای این کار کافی است.

۲۸ در این تقاطع حق تقدم عبور به ترتیب با کدام یک می باشد؟



- ۱- قرمز، آبی، سبز
- ۲- سبز، آبی، قرمز
- ۳- آبی، قرمز، سبز
- ۴- قرمز، سبز، آبی



۲۷ مفهوم این تابلو چیست؟

- ۱- رعایت حق تقدم
- ۲- خطر
- ۳- خطر مه و کولاک
- ۴- به تابلوی رعایت حق تقدم نزدیک می شوید.

۲۹ در صورت مشاهده تابلو مقابل متظر چه چیزی باید بود؟




- ۱- پل زیرگذر
- ۲- تونل
- ۳- اثر باستانی
- ۴- پایان تونل



- ۱- گردش به چپ ممنوع
- ۲- پیچهای پی در پی (اولین پیچ به چپ)
- ۳- پیچ به چپ
- ۴- پیچ به راست



۷ خطوط شطرنجی در وسط نقاط نشان دهنده چیست؟



۱- مربوط به زمانی می شود که تراکم خودروها در یک نقاط زیاد بوده و امکان تخلیه وجود نداشته باشد.  
۲- عبور از روی این خطوط ممنوع است.

۳- رانندگان باید قبل از خطوط شطرنجی توقف و مسیر حرکت خودروهای دیگر را باز نگه دارند.

۴- تمام موارد

۸ مفهوم شکل هشت گوشه مقابل در علائم عبور و مرور چیست؟



۱- شروع و پایان حق تقدم مسیر

۲- صرفاً برای رعایت حق تقدم

۳- تنها برای تابلوهای ایست (توقف)

۴- علامت دستوری، بازدارنده

۱۰ چرا شکسته و کثیف بودن شیشه های خودرو می تواند خطرناک باشد.

۱- چون باعث کاهش دید می شود.

۲- چون باعث کاهش انعکاس نور می شود.

۳- چون باعث افزایش انعکاس نور می شود.

۴- شکسته بودن و کثیف بودن شیشه ها خطر آفرین نمی باشد.

۱۲ مفهوم برجسب مقابل کدام است؟



۱- راننده معلول

۲- نابینای مطلق

۳- راننده ناشنوا

۴- راننده دارای نقص عضو

۱۱ کدام گزینه در مورد رانندگی ایمن درست است؟

۱- در بعضی موارد لازم است از حق خود چشم پوشی کنید.

۲- تحت هیچ شرایطی نباید از حق خود چشم پوشی کنید.

۳- در شرایط اضطراری می توان تابلو ورود ممنوع را نادیده گرفت.

۴- همیشه با سرعت بالا حرکت کنید تا زودتر به مقصد برسید.

۱۴ در معابر محلی و میادین شهرها، حداکثر سرعت چند کیلومتر در ساعت است؟

۱- ۶۵

۲- ۳۰

۳- ۵۵

۴- ۴۵

۱۳ برای تغییر مسیر به سمت راست اگر وسیله نقلیه موتوری چراغ راهنما نداشته باشد باید.....

۱- دست چپ را به طرف بالا نگهداشت

۲- دست راست را به طرف بالا نگهداشت -

۳- دست چپ را به طور افقی نگهداشت

۴- دست راست را به طور افقی نگهداشت

۱۵ در گذرگاه پیاده که چراغ راهنمایی و رانندگی وجود نداشته باشد حق تقدم عبور با.....

۱- پیادگان است.

۲- وسیله نقلیه ای که در مسیر مجاز حرکت می نماید.

۳- وسیله نقلیه ای که از سرعت بالایی برخوردار است.

۴- وسیله نقلیه ای به به طور مستقیم حرکت می کند.

۱۶ کدام یک به معنای « توقف وسیله نقلیه ممنوع جز برای سوار و پیاده کردن مشروط به استقرار راننده در پشت فرمان » است؟

۱- توقف

۲- ایستادن ممنوع

۳- توقف مطلقاً ممنوع

۴- توقف ممنوع

۱۸ وظیفه قطع و وصل کردن مدار آب از موتور به رادیاتور بر عهده کدام قطعه می باشد؟

۱- پمپ روغن

۲- کلاچ

۳- ترموستات

۴- دیفرانسیل

۱۷ در صورت خرابی وسیله نقلیه و میسر نبودن انتقال آن به محل مناسب، چراغ الکتریکی را برای آگاه سازی دیگران باید در چه فاصله ای از وسیله نقلیه قرار دارد؟

۱- ۷۰ متری

۲- ۲۰۰ متری

۳- ۱۵۰ متری

۴- ۱۰۰ متری

۱۹ هدف از.....، تسلط کامل پاها و دستها بر تجهیزات کنترلی همچون پلاکها، اهرمها و غریبک فرمان می باشد.

۱- معاینه فنی

۲- تنظیم آینه ها

۳- سلامت فنی

۴- تنظیم صندلی

۲۰ عمر مفید کبستر چقدر است؟

۱- حدود ۲۰۰ هزار کیلومتر

۲- حدود ۴۰۰ هزار کیلومتر

۳- حدود ۲ سال

۴- حدود ۱۰ سال

۲۲ بزرگترین منبع آلودگی هوا چیست؟

۱- کارگاه ها

۲- خودرو

۳- وسایل گازسوز خانگی

۴- پالایشگاه ها

۲۱ کدامیک از موارد زیر در خصوص ایمن کردن صحنه حادثه صحیح تر می باشد؟

۱- پارک خودرو در فاصله مناسب، استفاده از تابلو اعلان خطر، مطمئن شدن از اینکه خطری شما را تهدید نمی کند.

۲- پارک خودرو در محل حادثه، کشیدن چند نفس عمیق و آرام، استفاده از تابلو اعلان خطر.

۳- استفاده از تابلو اعلان خطر، گرفتن شرح حال از مصدومین، بیرون کشیدن سریع مصدومین از داخل خودرو.

۴- پارک سریع خودرو در محل حادثه، بررسی وضعیت بیماری مصدومین، دور کردن مصدوم از صحنه حادثه



**با آرزوی موفقیت‌ها در آزمون آیین نامه راهنمایی و رانندگی**